

机密★启用前

2023 年天津市初中学业水平考试试卷

历史（开卷）

道德与法治和历史合场考试，合计用时 120 分钟。

本试卷分为第 I 卷（选择题）和第 II 卷（非选择题）两部分。第 I 卷为第 1 页至第 5 页，第 II 卷为第 6 页至第 8 页。试卷满分 100 分。

答题时，务必将答案涂写在“答题卡”上，答案答在试卷上无效。考试结束后，将本试卷和“答题卡”一并交回。

祝你考试顺利!

第 I 卷

注意事项:

1. 每题选出答案后，用 **2B** 铅笔把“答题卡”上对应题目的答案标号的信息点涂黑。如需改动，用橡皮擦干净后，再选涂其他答案标号的信息点。
2. 本卷共 25 题，每题 2 分，共 50 分。在每题给出的四个选项中，只有一项最符合题意。

1. 根据考古发现，远古农耕时代的河姆渡人最有可能吃到的是
A. 粟
B. 水稻
C. 葡萄
D. 甘薯
2. 汉武帝为加强中央对地方的控制，采纳主父偃的建议实施了
A. 分封制
B. 郡县制
C. 推恩令
D. 行省制
3. 学习历史需要了解和掌握历史纪年方法。赤壁之战发生的公元 208 年还可以表述为
A. 公元 2 世纪初
B. 公元 2 世纪末
C. 公元 3 世纪初
D. 公元 3 世纪末

4. “尽道隋亡为此河，至今千里赖通波。若无水殿龙舟事，共禹论功不较多。”这首诗可用于研究

- A. 隋朝统一的条件
- B. 赵州桥的艺术特点
- C. 科举制创立的作用
- D. 大运河开凿的影响

5. 右图描绘的灌溉工具是

- A. 耒车
- B. 翻车
- C. 筒车
- D. 秧马



6. 中国古代历史上长期存在的丞相制度废除于

- A. 唐朝
- B. 宋朝
- C. 明朝
- D. 清朝

7. 秦朝修筑驰道、汉朝发行五铢钱、元朝设立宣政院、郑成功收复台湾在客观上的共同意义在于

- A. 维护国家统一
- B. 削弱地方权力
- C. 抵御外来入侵
- D. 加强君主专制

中华百年看天津。请回答 8~9 题

8. 作家冯骥才说：“从历史角度看，天津小洋楼是西方入侵的一目了然的证据；从文化角度看，它却是本土文化一个奇异的创造。进而说，是在被动历史背景下主动的文化创造。”在“西方入侵”过程中把天津开为商埠的是

- A. 《南京条约》
- B. 《天津条约》
- C. 《北京条约》
- D. 《马关条约》

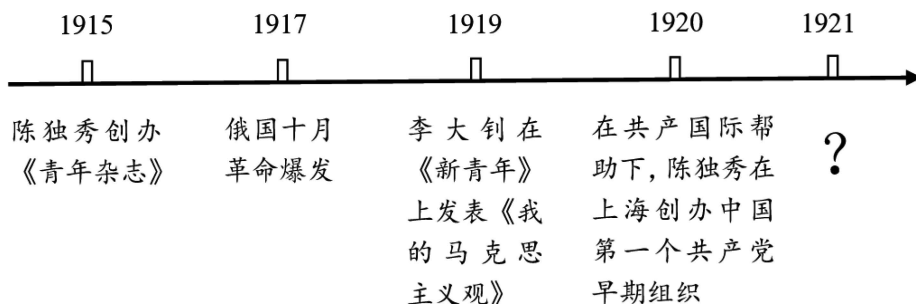
9. 1866 年，三口通商大臣崇厚筹办天津机器局东局和西局。东局原址位于天津城东贾家沽道，是中国第一家近代化火药厂。这一洋务企业创办的目的是

- A. 自强
- B. 求富
- C. 民主
- D. 共和

10. “20 世纪初，有一年份叫辛亥，有一壮举叫首义……”歌谣中辛亥年发生的“首义”是指

- A. 安庆起义
- B. 广西起义
- C. 黄花岗起义
- D. 武昌起义

11. 制作时间轴是中学生常用的学习方法。根据下列时间轴所探究的主题推断，问号处对应的是



- A. 五四运动
B. 中国共产党成立
C. 秋收起义
D. 井冈山会师
12. 确立了思想建党、政治建军原则的会议是
A. 八七会议
B. 古田会议
C. 遵义会议
D. 瓦窑堡会议
13. 《地球的红飘带》一书中描写了四渡赤水、飞夺泸定桥以及翻雪山、过草地等场景。这些场景反映的历史事件是
A. 国民革命军北伐
B. 中国工农红军长征
C. 刘邓大军千里跃进大别山
D. 人民解放军占领南京
14. 全民族抗战爆发后，中国军队主动对日作战取得的第一个重大胜利是
A. 平型关大捷
B. 台儿庄战役
C. 武汉会战
D. 百团大战
15. 右图描绘了某宪法草案公布后人们在田间地头热议的画面。随后出台的我国有史以来真正反映人民利益的宪法是
A. 1912年《中华民国临时约法》
B. 1914年《中华民国约法》
C. 1949年《中国人民政治协商会议共同纲领》
D. 1954年《中华人民共和国宪法》



宪法草案公布了（版画）

16. 在油田大会战时，王进喜率领钻井队“人拉肩扛”“盆端桶提”；遇到险情时，用身体搅拌泥浆制服井喷。在他们身上体现的时代精神是

- A. 保家卫国
- B. 艰苦创业
- C. 助人为乐
- D. 科技创新

17. 同学们要在暑期实地开展“中国首批经济特区”主题研学活动。他们应去

- A. 北京
- B. 重庆
- C. 上海
- D. 深圳

18. 下图为香港《大公报》1997年某一天的版面。“回归了 开新篇”的大字设计是为了强调

- A. 提出“一国两制”方针
- B. 正式签署中英联合声明
- C. 中国恢复对香港行使主权
- D. 中国恢复对澳门行使主权



19. 右图的建筑产生于

- A. 古代埃及
- B. 古代希腊
- C. 古代罗马
- D. 拜占庭帝国



20. 历史解释是对史实的分析和评判。下列选项属于历史解释的是

- A. 1689年英国议会通过了《权利法案》
- B. 1775年来克星顿传出了枪声
- C. 1789年巴黎民众攻占巴士底狱
- D. 1789年的法国《人权宣言》具有历史进步性

21. 第一次工业革命中，将蒸汽机变为主要动力来源的发明家是

- A. 哈格里夫斯
- B. 瓦特
- C. 诺贝尔
- D. 爱迪生

音乐作品可以表现重大社会题材。请回答 22~23 题

22. 《英雄交响曲》气势磅礴，表达出作曲家对自由、平等和博爱的渴望。这位德国天才作曲家是
- A. 贝多芬
 - B. 列夫·托尔斯泰
 - C. 达尔文
 - D. 梵高
23. 《英雄交响曲》本来是为歌颂拿破仑而作，但在 1804 年正式发表时作者愤怒地去掉了拿破仑的名字。这是因为拿破仑
- A. 发动政变
 - B. 加冕称帝
 - C. 远征俄国失败
 - D. 兵败滑铁卢
24. 有人说参加巴黎和会的各国代表大多只是“道具”，因为许多事情已由英国首相劳合·乔治、法国总理克里孟梭和美国总统威尔逊决定了。这说明巴黎和会
- A. 被大国所操纵
 - B. 体现平等协商
 - C. 复苏德国经济
 - D. 挑起美苏冷战
25. 某历史兴趣小组收集了以下资料进行探究学习。他们学习的主题应该是

照片：《周恩来在万隆会议上发言》

地图：《非洲独立进程图》

纪录片：《巴拿马运河》

传记：《曼德拉传》

- A. 一战后亚非拉民族民主运动的高涨
- B. 二战后资本主义的新变化
- C. 二战后亚非拉国家的新发展
- D. 二战后社会主义力量的壮大



2023 年天津市初中学业水平考试试卷

历史（开卷）

第 II 卷

注意事项：

1. 用黑色字迹的签字笔将答案写在“答题卡”上。
 2. 本卷共 3 大题，共 50 分。
- 26.（16 分）史料是通向历史认识的桥梁。研读史料，回答问题。

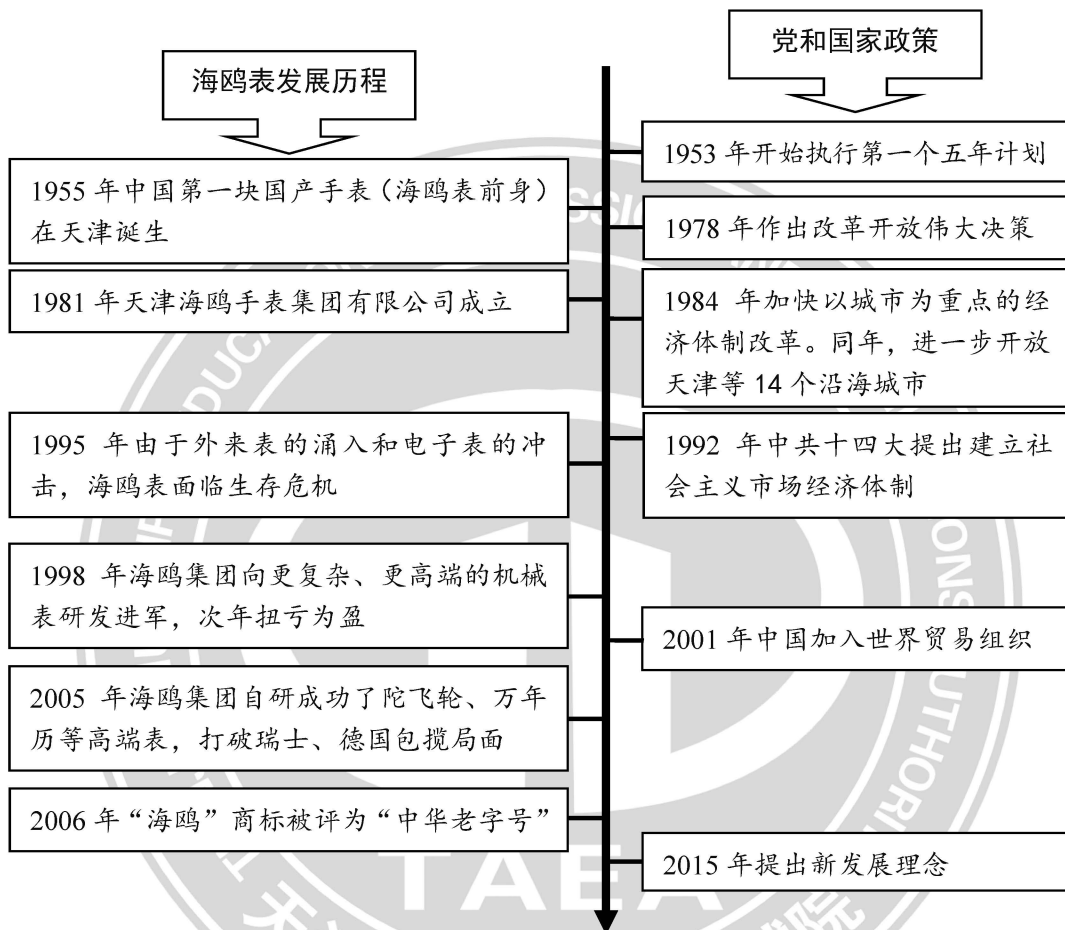
史料一 宋《萍洲可谈》	史料二 南宋持罗盘陶俑	史料三 泉州出土宋代海船（残存船底）
<p>朱彧(yù)在 1119 年写成《萍洲可谈》一书，书中写道：“舟师^①识地理，夜则观星，昼则观日，阴晦则观指南针。”</p> <p>①舟师，船上的技术人员。</p>		 <p>据考古研究，此船的长度应为 34 米，宽 11 米，深 4 米左右，载重量超过 200 吨，不仅体量大，而且还使用水密隔舱技术。从船舱出土物来看，数量最多的是香料和胡椒等，都是我国从南洋诸国进口的大宗货物。</p>

（1）史料分为文字史料、实物史料、口碑史料和数字化史料等类型。据此判断，史料一、史料二分别属于什么史料类型？（4 分）这两则史料共同反映的科技发明是什么？（2 分）

（2）结合所学，指出史料一、史料二所示发明是通过哪一地区的商人传到欧洲的？（2 分）它的外传对世界产生了什么影响？（2 分）

（3）依据史料三海船的考古介绍，概括这一时期的经济发展情况。（4 分）据史籍记载，北宋元祐二年，朝廷在泉州设立市舶司。市舶司的主要职能是什么？（2 分）

27. (18分) 天津海鸥表与中国工业化同命运共成长。结合以下时间轴进行探究。



(1) 1955年,中国第一块国产手表在天津诞生。这与时间轴上我国哪一经济发展计划有关?(2分) 该计划实施对中国工业化有何影响?(4分)

(2) 依据时间轴并结合所学,指出哪次会议上作出了改革开放的伟大决策?(2分) 从改革开放以来海鸥表等中国工业的发展历程中,你获得了哪些启示?(4分)

(3) 海鸥表和中国工业的发展都离不开各领域科技创新。请结合所学知识,列举建国以来为我国现代化建设作出贡献的两位科学家及其成就。(6分)

28. (16分) 有学者认为, 发现人、发现女性、发现儿童是人类社会的进步。阅读材料, 回答问题。

材料一 右图《蒙娜丽莎》

(1) 右图是哪位画家的代表作? (2分) 作品以现实人物为主题, 人物形象神态自若, 嘴角含着一丝微笑, 富有生命的活力。这反映出文艺复兴时期人们怎样的精神追求? (2分)



材料二 随着工业革命的发展, 工人阶级队伍不断壮大, 劳动力结构发生了巨大的变化……以英国为例, 到 20 世纪初, 越来越多的妇女走出家庭, 成为工业劳动者, 她们的社会角色发生了变化, 这为妇女社会地位的提高创造了条件。

——摘编自统编版《义务教育教科书世界历史九年级下册》

(2) 依据材料二并结合所学, 请指出 20 世纪初英国妇女的社会角色和地位分别发生了怎样的变化? (4分) 造成这种变化的主要原因是什么? (2分)

材料三 由于认识到现代社会需要高技术和受过良好教育的劳动力。因此, 政府立法规定, 儿童的主要任务是受教育而不是赚钱。例如, 英国 1881 年规定, 5 至 10 岁的儿童必须接受义务教育。

——摘编自杰里·本特利《简明新全球史》

(3) 依据材料三, 概括 19 世纪末工业化国家的儿童能够接受教育的原因是什么? (4分) 结合所学, 分析说明儿童接受教育对人类社会的发展产生了怎样的影响? (2分)

机密★启用前

2023 年天津市初中学业水平考试

历史参考答案

第 I 卷共 25 题，每题 2 分，共 50 分。

1. B 2. C 3. C 4. D 5. C 6. C 7. A 8. C 9. A 10. D
11. B 12. B 13. B 14. A 15. D 16. B 17. D 18. C 19. C 20. D
21. B 22. A 23. B 24. A 25. C

第 II 卷共 3 大题，共 50 分。

26.

(1)

①史料一是文字史料，史料二是实物史料。

②指南针（罗盘）

(2)

①阿拉伯

②大大促进了世界远洋航海技术的发展；为世界地理大发现（新航路开辟）提供了重要条件；促进了世界贸易的发展。（答出一点即可，其它符合题意且言之成理亦可）

(3)

①造船技术水平高；海外贸易发展。（其它符合题意且言之成理亦可）

②管理海外贸易

27.

(1)

①第一个五年计划

②我国开始改变工业落后的面貌，向社会主义工业化迈进。（其它符合题意且言之成理亦可）

(2)

①中共十一届三中全会

②坚持党的领导；国家政策的引领；有计划地进行工业建设；坚持改革开放；遵循市场经济规律；企业的创新与发展；参与全球范围内竞争等。（答出两点即可，其它符合题意且言之成理亦可）

(3)

钱学森：参与组织领导了中国运载火箭、导弹、卫星的研制和实验工作，为中国航天事业的发展作出了巨大贡献。

邓稼先：参与研制中国第一颗原子弹

袁隆平：成功培育出籼型杂交水稻

屠呦呦：发现了能够有效抵抗疟疾的青蒿素，开创了治疗疟疾的新方法。

(答出两人及其成就即可，其它符合题意且言之成理亦可)

28.

(1)

①达·芬奇

②人文主义(以人为中心，提倡发扬人的个性，追求享受现世生活。)(其它符合题意且言之成理亦可)

(2)

①妇女走出家庭，成为工业劳动者。妇女社会地位提高了。

②工业革命的影响。

(3)

①现代社会的需求(工业化发展的需要);政府立法。(其它符合题意且言之成理亦可)

②提高社会整体文化水平;提升文明程度;促进社会的发展等。(答出一点即可，其它符合题意且言之成理亦可)

大公至信 尚德勛能