

2023年广西初中学业水平考试 历史试题试卷结构及参考样卷

一、试卷结构

(一) 题型结构。

题型	题量	分值
选择题	15 题	30 分
非选择题	3 题	30 分
合计	18 题	60 分

(二) 试卷难度分布及比例。

难度	比例
容易	约 70%
中等	约 20%
较难	约 10%

(三) 试卷内容结构。

类别	项目	比例
历史阶段	中国古代史	30%
	中国近现代史	40%
	世界史	30%
知识领域	政治史	约 55%
	经济史	约 23%
	思想文化史	约 22%

二、参考样卷

广西初中学业水平考试 历史

(历史和道德与法治同堂分卷, 考试时间共 120 分钟, 本卷满分 60 分)

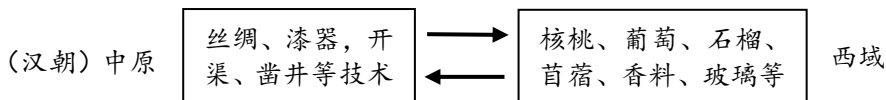
注意事项:

1. 答题前, 考生务必将姓名、准考证号、座位号填写在试卷和答题卡上。
2. 考生作答时, 请在答题卡上作答(答题注意事项见答题卡), 在本试卷上作答无效。

第 I 卷 (选择题 共 30 分)

下列各小题给出的四个选项中只有一个符合题意, 请用 2B 铅笔在答题卡上将选定的答案标号涂黑。(本卷共 15 小题, 每小题 2 分, 共 30 分)


1. 他们是传说中中华文明的创始者, 被称为中华民族的“人文初祖”。他们是
A. 炎帝、黄帝
B. 周武王、齐桓公
C. 大禹、蚩尤
D. 秦始皇、汉武帝
2. 下图物品(技术)的交流主要得益于当时



- A. 丝绸之路开辟 B. 遣唐使来华 C. 郑和下西洋 D. 马可·波罗访华
3. 317—589 年的二百多年间, 江南农业生产从火耕水耨(用火来耕种, 用水来除草)发展到精耕细作。这主要反映了江南地区
A. 交通运输的改善 B. 环保意识的增强
C. 生产技术的进步 D. 自然条件的优越
4. 右图描绘了唐太宗接见吐蕃首领松赞干布派来的求婚使者的场景。该图主要反映了唐朝的
A. 社会风俗 B. 民族关系
C. 市井生活 D. 社会风气
5. 钱穆在《国史大纲》中写道:“宋王室的一个历世相传的家训, 厥为优待士大夫, 永远让文人压在武人头上。”这反映了宋朝的治国策略是
A. 强干弱枝 B. 分解相权 C. 民贵君轻 D. 重文轻武
6. “号令明兮赏罚信, 赴水火兮敢迟留? 上报天子兮下救黔首(平民百姓), 杀尽倭奴兮觅个封侯。”与这首明朝军歌相关的历史事件是
A. 郑成功收复台湾 B. 戚继光抗击倭寇
C. 林则徐虎门销烟 D. 左宗棠收复新疆
7. 清朝前期, 湖北的汉口镇已是一个“人烟数十里, 贾户数千家”的都会。“贾户数千家”反映出汉口镇
A. 农业的发展 B. 手工业的进步 C. 商业的繁荣 D. 文化的兴盛



《步辇图》局部

8. 斯塔夫里阿诺斯在《全球通史》中说：“这是后来蚕食中国大部分主权的长长的一系列不平等条约中的第一个。”“第一个”是指
A. 《南京条约》 B. 《北京条约》 C. 《马关条约》 D. 《辛丑条约》
9. 1925年，孙中山先生病逝。蔡元培先生挥笔书写了如下挽联：“是中国自由神，三民五权，推翻历史数千年专制之局；愿吾侪（我们）后死者，齐心协力，完成先生一二件未竟之功。”这里的“未竟之功”是指
A. 结束中国封建君主专制制度 B. 推翻清王朝的反动统治
C. 完成反帝反封建的革命任务 D. 创建资产阶级民主共和国
10. 1918年，李大钊在《新青年》发表赞美家乡风光的《山中即景》：“是自然的美，是美的自然；绝无人迹处，空山响流泉。”他用口语化的语言呈现诗歌内容，得益于新文化运动
A. 提倡民主思想 B. 抨击旧道德
C. 主张男女平等 D. 倡导白话文
11. 右图是钱币收藏爱好者韦伯伯的藏品。这枚钱币的发行是为了纪念
A. 西藏和平解放 B. 香港回归祖国
C. 澳门回归祖国 D. 建国五十周年
- 
12. 1971年10月25日晚，第26届联合国大会一项决议的表决刚结束，会议大厅一片沸腾，支持中国的各国家代表用不同的语言欢呼：“我们胜利了！”这项决议是
A. 恢复中国在联合国的合法席位 B. 成立亚太经合组织
C. 成立亚洲基础设施投资银行 D. 中国加入世贸组织
13. 《罗马民法大全》对财产、买卖、契约关系等作出明确规定，奠定了欧洲民法的基础。据此可知，《罗马民法大全》
A. 确认了穆罕默德的统治地位 B. 为后世法律制订提供借鉴
C. 导致了西罗马帝国的灭亡 D. 标志“种姓制度”的建立
14. 文艺复兴时期，彼特拉克在《歌集》中抨击教会，描写人的喜怒哀乐。这体现了
A. 理性主义 B. 人文主义 C. 自由主义 D. 英雄主义
15. 年代轴有助于我们梳理历史发展的线索。下列年代轴反映的学习主题是
- | | | | |
|------------|-----------|-------|-----------|
| 印度非暴力不合作运动 | 中华人民共和国成立 | 万隆会议 | 巴拿马收回运河主权 |
| 1920年 | 1949年 | 1955年 | 1990年 |
- >
- A. 资本主义制度的初步确立与扩展 B. 两次世界大战及战后国际秩序的建立
C. 无产阶级革命运动的兴起和发展 D. 亚非拉民族民主运动的高涨与新发展

第 II 卷（非选择题 共 30 分）

- 16.（12分）劳动启迪智慧，劳动开创伟业，劳动成就梦想。阅读材料，回答问题。

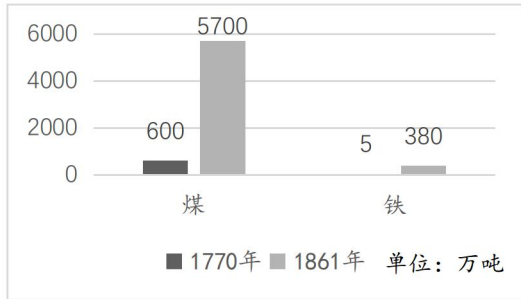
材料一 都江堰水利工程既做到了防洪，又对成都平原进行了灌溉。这是李冰利用岷江自有流向，采取既没筑坝，也未修闸的方式，实现了无坝引水；根据岷江来水量有限分水，即“四六分水”，既保证了成都平原成为天府之国，也保持了岷江仍然是一条奔腾的河流。

——摘编自王瑞芳著《人水和谐的典范——都江堰的当代价值与保护》

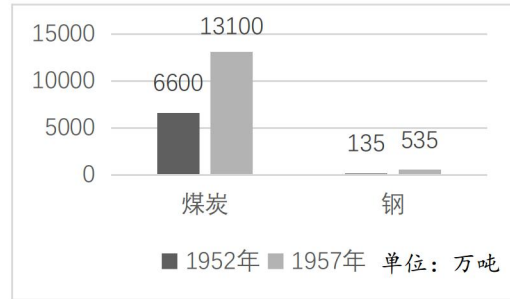
- （1）根据材料一，指出都江堰的主要功能。（2分）都江堰的修建如何体现出古代劳动人民的智慧？（2分）

材料二

1770—1861年英国煤、铁产量统计图



1952—1957年中国煤炭、钢产量统计图



——摘编自斯塔夫里阿诺斯著《全球通史：从史前到21世纪》和《新中国五十五年统计资料汇编》

- (2) 根据材料二，概括中英两国在这两个历史时期重工业发展的共同趋势。(1分) 结合所学知识，分别指出推动两国重工业发展出现这一趋势的主要原因。(2分)

材料三 某班开展“最美劳动者”评选活动，以下是评选结果。

人物	成就及影响
爱迪生	为了解决漫漫黑夜给人类生活带来的困扰，他通过数千次尝试，终于找到一种新材料，发明了白炽灯泡，将人类带入光明的世界。
詹天佑	为打破近代以来外国人垄断修建中国铁路的局面，在修建京张铁路时，他精心勘测、设计、施工，实现了“花钱少，质量好，完工快”的既定目标。京张铁路成为中国独立自主建成的第一条铁路干线。
袁隆平	为解决粮食短缺问题，他带领团队通过十多年的实验研究，成功培育出高产杂交水稻，并不断攀登水稻产量的高峰，为保障我国粮食安全和解决世界性饥饿问题作出了重要贡献。

——摘编自统编版初中历史教科书

- (3) 请根据评选结果，归纳“最美劳动者”的入选条件。(3分)
 (4) 参照上述“最美劳动者”的入选条件，请你再推荐一位历史上的“最美劳动者”。(写出人名及其主要成就。2分)

17. (10分) 中国共产党自1921年成立以来，始终把为中国人民谋幸福、为中华民族谋复兴作为自己的初心使命。阅读材料，回答问题。

材料一



图1：根据地百姓十送红军 (绘画)



图2：敌后战场的地道战 (绘画)




图3：解放区人民宣传《中国土地法大纲》

- (1) 结合所学知识判断材料一中的图片所对应的历史事件。(将正确序号填入空格内。3分) 图1：_____；图2：_____；图3：_____。(①解放战争 ②红军长征 ③抗日战争)

材料二 在马克思主义中国化进程中，中国共产党人不断回答每一时代的重大课题，创立了毛泽东思想、邓小平理论，形成了“三个代表”重要思想、科学发展观。党的十八大以来，以习近平同志为主要代表的中国共产党人，顺应时代发展，创立了习近平新时代中国特色社会主义思想。

——摘编自王伟光著《马克思主义中国化：百年党史的精彩华章》

(2) 根据材料二，列举中国共产党推进马克思主义中国化的两个理论成果。(2分)

材料三 40年前，中国共产党作出了实行改革开放的历史性抉择，中国特色社会主义迸发勃勃生机。从1.8%到15%，这是40年来中国经济总量占世界份额的攀升幅度；从97.5%到3.1%，这是40年来中国农村贫困发生率的下降幅度。一升一降间，是一个泱泱大国短短40年从站起来、富起来再到强起来的东方奇迹。

——摘编自新华社2018年12月8日电《风雨砥砺 壮丽史诗——从改革开放40年看中国奇迹》

(3) 结合所学知识，“中国共产党作出了实行改革开放的历史性抉择”始于哪一次会议？(1分)

根据材料三总结中国改革开放的成就。(2分)

(4) 综合上述材料，你认为中国共产党为什么能带领人民走向中华民族伟大复兴？(2分)

18. (8分) 人类社会在飞速发展的同时也面临许多困难与挑战，如何应对困难与挑战成为国际社会需要共同思考的问题。阅读材料，回答问题。

材料

困难与挑战	应对
20世纪以来，爆发了两次世界大战。1945年至2020年，全球共发生了涉及99个国家的78场较大规模的局部战争。	1942年，26个国家签署《联合国国家宣言》。
	联合国宪章规定各成员国必须参与维和行动，自1948年以来将近130国提供军队或警力维和。
全球气候变暖速度加快；淡水资源面临短缺危机；森林资源因乱砍滥伐日益减少；土地荒漠化越来越严重。	第21届联合国气候变化大会通过《巴黎协定》，对2020年后全球应对气候变化的行动作出统一安排。
	为了实现低碳目标，英国政府开始用燃气发电站取代了燃煤发电站。2015年，燃煤发电量在总发电量中的占比降至28%，2019年降至3%。
截至欧洲中部时间2022年3月4日17时18分，全球新冠肺炎累计确诊病例达440807756例，累计死亡病例5978096例。	2021年5月，全球健康峰会召开，与会国共同商讨如何团结协作应对新冠疫情的挑战。
	截止2021年5月，中国已为受疫情影响的发展中国家提供了20亿美元援助，为全球供应了2800多亿只口罩、34亿多件防护服等抗疫物资。

——摘编自齐晓营著《人类命运共同体视阈下全球生态治理困境研究》和习近平出席全球健康峰会上的讲话《携手共建人类卫生健康共同体》等

(1) 根据材料，指出第二次世界大战中标志世界反法西斯联盟正式成立的历史事件。(1分)

(2) 根据材料，概括20世纪以来人类社会面临的困难与挑战。(3分)

(3) 阅读材料，从“联合国”“国际合作”“大国担当”中选取一个角度，围绕“应对困难与挑战”提出观点，并在材料中选取两个对应的史实，加以论述。(要求：观点明确，史论结合，逻辑清晰。4分)

附：参考答案与评分标准

第 I 卷 选择题（每小题 2 分，共 30 分）

题号	1	2	3	4	5	6	7	8	9	10	11	12	13	14	15
答案	A	A	C	B	D	B	C	A	C	D	C	A	B	B	D

第 II 卷 非选择题（共 30 分）

16.（12 分）

- (1) 功能：防洪、灌溉。（每点 1 分，共 2 分）智慧：利用岷江自有流向，实现了无坝引水；根据岷江来水量采用“四六分水”，既实现防洪与灌溉的目的，又保证了岷江的水量。（每点 1 分，共 2 分）
- (2) 共同趋势：重工业发展迅速。（1 分）原因：英国开展了工业革命；中国实行了第一个五年计划。（每点 1 分，共 2 分）
- (3) 入选条件：解决人类（各国）面临的重大问题；取得的成果具有创新性；体现出敬业、坚韧、创新等精神品质。（言之有理即可。每点 1 分，共 3 分）
- (4) 人物及成就：牛顿发现万有引力定律；钱学森（或邓稼先）为研制“两弹一星”作出巨大贡献等等。（写出人物及与之匹配的成就即各得 1 分，只写具体人物或只写成就不得分。共 2 分）

17.（10 分）

- (1) 图一：②；图二：③；图三：①。（每空 1 分，共 3 分）
- (2) 理论成果：毛泽东思想、邓小平理论、“三个代表”重要思想、科学发展观、习近平新时代中国特色社会主义思想。（答任意两项成果即可，2 分）
- (3) 会议：党的十一届三中全会。（1 分）成就：中国经济大幅增长，对世界经济增长的贡献不断提高；脱贫攻坚成效显著，扶贫成就举世瞩目。（意思相近即可。每点 1 分，共 2 分）
- (4) 坚持以人民为中心；坚持理论联系实际；坚持走改革发展道路等。（符合题意，言之有理即可。每点 1 分，共 2 分）

18.（8 分）

- (1) 事件：1942 年，26 个国家签署《联合国宣言》。（1 分）
- (2) 霸权主义与地区冲突不断；日益严重的生态问题；严重传染性疾病的传播。（每点 1 分，共 3 分）

(3) 评分标准:

等级	观点	史实	结论
一等(4分)	观点正确, 1分。	紧扣观点, 两个史实运用正确, 条理清晰, 2分。	有总结提升, 1分。
二等(3分)	观点正确, 1分。	紧扣观点, 两个史实运用正确, 条理清晰, 2分。	没有总结; 或有总结但没有提升, 不赋分。
	观点正确, 1分。	只有一个史实运用正确, 1分。	有总结提升, 1分。
三等(2分)	观点正确, 1分。	只有一个史实运用正确, 1分。	没有总结; 或有总结但没有提升, 不赋分。
	观点正确, 1分。	两个史实运用都不正确, 不赋分。	有总结提升, 1分。
四等(1-0分)	观点、两个史实、结论四个要点中只有一个正确, 1分。四个要点都不正确, 不赋分。		

【示例一】

观点: 在应对人类发展面临的各种困难与挑战中, 联合国发挥了有效的组织和领导作用。

史实: 自1948年以来将近130个联合国成员国参与世界维和行动。为应对全球气候变暖, 第21届联合国气候变化大会通过《巴黎协定》, 对2020年后全球应对气候变化的行动作出统一安排。

结论: 为更有效应对人类发展中面临的各种困难与挑战, 各国应该继续加强以联合国为核心的国际体系, 坚定维护联合国权威和地位, 切实发挥联合国的组织力、协调力和领导力。

【示例二】

观点: 在应对人类社会发展面临的各种困难与挑战中, 部分国家体现出大国的担当。

史实: 为了实现低碳目标, 英国政府开始用燃气发电站取代了燃煤发电站。2015年燃煤发电量在总发电量中的占比降至28%, 2019年降至3%。截止2021年5月, 中国已为受疫情影响的发展中国家提供了20亿美元援助, 为全球供应了2800多亿只口罩、34亿多件防护服等抗疫物资。

结论: 各国的发展都得益于国际社会, 也应当回馈国际社会, 大国更是如此。因此在应对人类社会发展面临的各种困难与挑战中, 大国应当承担更多力所能及的责任。

【示例三】

观点: 在应对人类社会发展面临的各种困难与挑战中, 国际合作成为妥善应对困难与挑战的重要途径。

史实: 1942年, 26个国家签署《联合国家宣言》, 标志着世界反法西斯联盟的正式形成, 反法西斯联盟团结作战, 最终赢得反法西斯战争的胜利。2021年5月, 全球健康峰会召开, 国际社会在联合国框架下团结合作, 共同应对新冠疫情的挑战。

结论: 单靠一国或几国之力无法应对人类社会发展的各种困难与挑战, 世界各国应安危与共、加强国际合作, 携手共创人类社会更美好的未来。