

山东省 2020 年普通高中学业水平等级考试（全国新高考 I 卷）

历史试题

重庆某教育辅导机构 赵小海

一、**选择题**：本题共 15 小题，每小题 3 分，共 45 分。每小题只有一个选项符合要求。

1. 战国时期，孟子认为“无礼义，则上下乱”，韩非子认为“义者，君臣上下之事”。他们所说“义”的实质是（ ）

- A. 中央集权政治的准则
- B. 衡量道德修养的标准
- C. 统治阶层的行为规范
- D. 维护等级秩序的工具

【解析】材料的大意是：孟子认为，没有礼义，上下的关系就会混乱；韩非子认为，义是用来规定君臣上下之间的关系。两者重点都强调了“上下”关系，其本质都是维护等级秩序。故 **D 项正确**。再者，结合战国时期的时代特征，不论是孟子、还是韩非子等诸子百家，他们提出了自己的看法和主张，都是为了拯救当时动荡的政局。

2. 先秦至西汉前期，山东东部地区得“鱼盐之利”，总体上是商业活跃的地方。西汉中期以后，这一地区的商人活动开始步入低谷。这是由于西汉政府（ ）

- A. 重视关中地区经济发展
- B. 强化了经济控制
- C. 开通了丝路贸易
- D. 以儒家义利观教化百姓

【解析】题干所给的时间段呈现出“过去……现在……”之意，一般以表示“现在”之意的时间为主，即：西汉中期以后山东东部地区商人活动开始步入低谷的原因。结合所学可知，主要是汉武帝实行了盐铁官营政策和重农抑商政策所致。故 **B 项正确**。

3. 表 1 为唐代翰林学士的起源和演进概况。它反映了唐代（ ）

表 1

时 期	概 况
高祖，太宗时期	设立文学馆，弘文馆等学士，备君主顾问
高宗、武后时期	学士开始参与决策事务
玄宗时期	开元初，设翰林待诏，后改为翰林学士，建立学士院，专掌最机密的诏令起草，正式参与朝政决策

- A. 翰林学士逐渐控制了决策权
- B. 文官地位日益提高
- C. 三省六部制渐趋成熟
- D. 朝廷内部权力的再分配

【解析】做表格题的方法思路：一看，随着时间的推移，“唐代翰林学士”由最初的“君主顾问”职能到“参与决策事务”再到“正式参与朝政决策”，表明“唐代翰林学士”的权力在逐渐扩大；二关注，关注“唐代翰林学士”权力变化的背后是皇帝的操控。三化简解读。运用主体一致原则，故 **D 项正确**。

4. 王安石在变法中“募饥民修水利”，以“赈救食力之农”“兴陂塘沟港之废”。与“煮粥赈灾”“开仓放粮”等赈灾方式相比，王安石此举力图（ ）

- A. 尽量减轻政府的救灾负担
- B. 稳定灾区的社会秩序
- C. 从长远上解决灾民生计问题
- D. 建立政府抗灾救荒体系

【解析】题干中王安石的“募饥民修水利”、“兴陂塘沟港之废”是“以工代赈”的措施。再与常规的赈灾方式相比，就更强调其着眼于从长远解决灾民的生计问题，故**C项正确**。此题可以为今天的扶贫攻坚提供有意义的现实借鉴。

5. 黄宗羲提出，古代圣王倡行“崇本抑末”，其中“抑末”是指禁绝与巫蛊、奇技淫巧等相关的无益于民生的工商业，而有利于民生的工商业皆属本业。他作出这一论断旨在（ ）

- A. 表达对社会现实的不满
- B. 论证变革经济政策的合理性
- C. 宣扬经世致用思想
- D. 促进资本主义萌芽发展

【解析】黄宗羲生活在明清之际，此时随着商品经济发展，资本主义萌芽的出现，一批新思想家崛起。题干材料中前半句是黄宗羲回归了先秦儒家的民本思想，后半句又对其中不少陈腐之处不满，力求更新。其意图是论证变革经济政策的合理性，他反对重农抑商，提倡工商皆本。故**B项正确**。

6. 1873年，华蘅芳等人翻译的《地学浅释》把英国学者赖尔的地质学理论介绍到中国。赖尔认为，地质的进化过程，不是由超自然力量或者巨大灾变造成的，而是由自然力量在漫长的岁月中逐渐形成的。这一理论在当时受到中国进步思想家的欢迎，是因为它（ ）

- A. 对自然演进规律进行了科学阐释
- B. 传播了西方先进科学知识
- C. 与中国社会变革产生了共鸣
- D. 动摇了恪守祖训的陈旧观念

【解析】题干呈现出“不是……而是……”的转折关系，重心在其后，强调自然力量的作用。结合19世纪70年代的中国，随着民族危机的加深，地主阶级洋务派、早期维新派、民族资产阶级都在救亡图存。故这一理论与中国社会变革产生了共鸣，得出**C项正确**。

7. 五四时期，中国知识界掀起了“平民教育运动”。图1为1919年4月北京大学“平民教育讲演团”成员许德珩对一群小商人、人力车夫和店员演说的内容摘录。这反映出知识界已初步认识到（ ）

- A. 平民阶层贫困落后的根源
- B. 新文化传播必须与劳工运动相结合
- C. 觉醒民众对社会进步的重要性
- D. 团结工农是革命的当务之急

兄弟……这回谈话的题目是“勤劳与知识”，……各位劳动的精神，我们是很佩服的，若是再能求点知识，做个有知识的劳动家，莫终日做那些有钱人的机器、富贵人家的牛马，这是我们所盼望的。

图1

【解析】此题要注意题干中的“1919年4月”和图片中给出文字的关联词“若（是）……这（就是）”，这是假设关系，一般强调的重心在假设部分。也就是，演讲者强调的是让“小商人、人力车夫和店员”做个有知识、有思想、有觉悟的劳动者。这反映出当时的知识界已初步认识到觉醒民众对社会进步的重要性，故**C项正确**。

8. 图 2 为 1906—1921 年日、英、德、俄四国在华商号数量变化示意图。其中①是（ ）

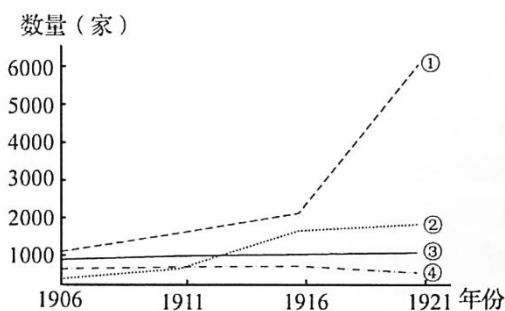


图 2

- A. 日本 B. 英国 C. 德国 D. 俄国

【解析】对比给出的四条线段的变化趋势，①在 1906—1916 年间在华商号数量和其他三条大体一致，然而到 1916—1921 年在在华商号数量陡然增加，究其原因，日本帝国主义趁第一次世界大战期间欧美各国无暇东顾的时机，以威胁利诱的手段，迫使袁世凯签订了中日“二十一条”，企图把中国的领土、政治、军事及财政等都置于日本的控制之下。故 A 项正确。

此题是近代西方列强侵华形势的变化，涉及政治、经济多维度的信息，需要考生进行比较和概括，则属于综合情境。

9. 图 3 为中国近代某一历史时期农民运动发展形势示意图。图中形势形成的原因是（ ）

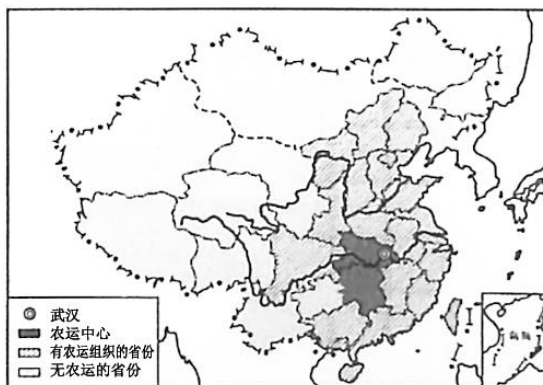


图 3

- A. 辛亥革命得到各地响应 B. 国民革命运动的发展
C. 农村革命根据地的开辟 D. 人民解放军展开战略反攻

【解析】做地图题的方法思路：一看图例，二看是否有明显的江、河、山、川，三看具体方位。从图例给出的中心——武汉和农民运动的中心黑色区域，可以判定为湖南、湖北，处于珠江流域。再结合所给选项，得出是国民革命运动，故 B 项正确。1927 年，湖北、江西人民收回了汉口和九江的英租界，沉重打击了帝国主义。工农全国反帝爱国情绪不断高涨。上海工人三次武装起义的胜利和两湖农民运动的发展，进一步把国民革命推向高潮。

农村革命根据地，主要集中在南方。人民解放战争的战略反攻是刘伯承、邓小平率晋冀鲁豫解放军主力跃进大别山，揭开了序幕。

10. 智者学派的代表人物普罗泰格拉认为，“当雅典人进行公共事务的讨论时……他们听每个人的建议，因为他们每个人都有这种美德，否则城邦将不存在”。他强调雅典的存续得益于（ ）

- A. 规范的公共事务决策程序
- B. 积极参政的公民群体
- C. 良好的道德风尚
- D. 发达的城邦教育

【解析】题干含有因果关系，正确选项也应含有因果关系。材料中普罗泰格拉的意思是：因为雅典城邦中的公民都积极参加城邦公共事务的讨论，并且听取每个人的建议，所以城邦才存在。故 **B 项正确**。

11. 启蒙运动中，一些思想家提出，“世界可以根除一切邪恶，因为任何邪恶的存在……仅仅是不良环境的产物，而这种环境是人类创造的，人类也可以改变它”。这反映出他们已经理性地思考（ ）

- A. 宗教改革运动的缺陷
- B. 社会的改造问题
- C. 科学的价值与作用
- D. 人类与环境的辩证关系

【解析】题干含有因果关系和转折关系，转折关系一般强调的重心在转折部分。也就是说，思想家的重心是人类可以改变邪恶存在的不良环境，故 **B 项正确**。再说，启蒙运动丰富和发展了人文精神的内涵，把反封建、反宗教神学的斗争推进到反封建专制制度、建立资产阶级“理性王国”、按照资产阶级要求构建政治制度的高度，为资产阶级夺取政权作了思想准备。这也符合所给选项中的社会的改造问题。

12. 第一次世界大战后，“现代欧洲联合思想之父”库登霍夫—卡莱基倡导建立“欧洲合众国”并发起了“泛欧运动”，在欧洲引起了强烈回响。这是因为（ ）

- A. 战争削弱了欧洲的国际地位
- B. 凡尔赛体系缓和了欧洲各国矛盾
- C. 美国联邦制为欧洲提供了借鉴
- D. 国际联盟奠定了欧洲合作的基础

【解析】纵观历史，影响一个国家制定对外政策的主要因素主要有：国家性质、国家利益、政治关系、意识形态和文化历史根源等，其根本出发点是国家利益。“一战”中欧洲的国际地位被削弱，卡莱基深刻地反思了“一战”的原因，大胆地预见战后区域化时代的来临，明确地提出了欧洲联合的政治行动纲领。故 **A 项正确**。

13. 表 2 为 1928 年和 1932 年苏联在农业春播中使用不同播种方式的情况。这反映出苏联（ ）

表 2

方式 时间	手播 (%)	马拉播种机 (%)	拖拉机牵引播种机 (%)
1928 年	74. 4	25. 4	0. 2
1932 年	51. 7	28. 3	20. 0

- A. 新经济政策对农业影响有限
- B. 工农业比例严重失调

C. 农业集体化基础相对薄弱

D. 工业化发展阻力较大

【解析】做表格题的方法思路：一看，从1928—1932年间，手播方式占比减少，马拉播种机占比增幅不大，拖拉机牵引播种机占比迅速上升；二关注，通过对比，手播方式占比到1932年仍然超过50%，也就是此时苏联在农业中的播种方式依然落后。三化简解读，运用主体一致原则，故C项正确。

14. 英国学者彼得·哈格特为阐明引发国家间冲突的各类地理因素编绘了一张假想国地图。图4所示为其中的四类因素。1938年，法西斯德国制造了苏台德问题，进而占领了苏台德地区。这一事件的起因可以归类于（ ）

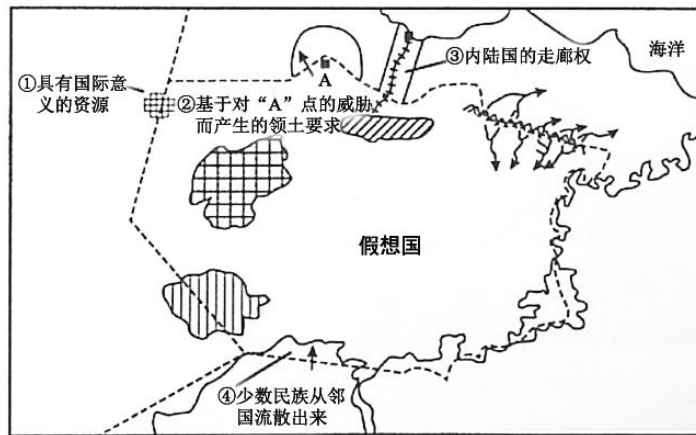


图4

A. ①

B. ②

C. ③

D. ④

【解析】苏台德区问题，是捷克斯洛伐克与纳粹德国之间的一次冲突。事件的原因是对苏台德地区主权的争执。由于捷克斯洛伐克政府获得了（可能不正确的）德国军队被迁往捷克斯洛伐克的边境的报道，因此捷克斯洛伐克政府进行部分动员。希特勒作为对捷克斯洛伐克的动员令的反应发布了详细地、消灭捷克斯洛伐克的计划。捷克斯洛伐克政府接受了法国和英国的建议，将德国人在居民中占50%以上的地区交给德国。故D项正确。

此题涉及了唯物史观、史料实证、时空观念、历史理解、历史解释和历史价值观等六个要素，同时实现了对获取和解读信息、分析历史问题等关键能力的考查。

15. 1969年美国出台了新的《出口管制法》，不再使用“共产党国家”与“非共产党国家”这一概念和划分方法，代之以“鼓励与美国有外交关系或贸易关系的国家进行贸易”，并要求商业部修订管制清单。这一调整主要是由于美国（ ）

A. 同苏联关系缓和

B. 与西欧竞争加剧

C. 陷入侵越战争泥潭

D. 国家实力相对衰弱

【解析】国家政策的调整的根本出发点是为国家利益服务。20世纪60年代，多极化趋势逐渐出现，一是欧洲一体化的出现与发展，二是日本的崛起，三是不结盟运动的兴起，四是中国的振兴与发展。这些事件有力地冲击了美苏两极格局，加之，勃列日涅夫改革重点放在重工业上，尤其是军事工业，与美国以较长短，所以美国实力相对衰弱，D项正确。