

## 社会·法治试题卷

## 温馨提示:

1. 全卷分试题卷(卷 I、卷 II)和答题卷,试题卷共 26 题。试题卷的答案必须全部涂,写在答题卷相应的位置上。

2. 全卷满分 80 分,考试时间 80 分钟。全卷实行开卷考试。

## 卷 I

一、选择题(本题有 21 小题,其中 1—10 题每题 1 分,11—21 题每题 2 分,共 32 分。)

请选出各题中一个最符合题意的选项,并在答题卷上将相应题次中的对应字母方框涂黑。

1. 2019 年 12 月,我国第一艘国产航空母舰 ▲ 在海南三亚某军港交付海军。

- A. 山东舰      B. 大连舰      C. 辽宁舰      D. 青岛舰

2. 2020 年 3 月,中共中央、国务院印发了《关于全面加强新时代大中小学 ▲ 的意见》。这是全面贯彻党的教育方针,培养新时代社会主义建设者和接班人的重要举措。

- A. 体育教育      B. 艺术教育      C. 职业教育      D. 劳动教育

2020 年,中国分别与甲、乙两国互办文化旅游年。读两国地理简图(图 1),回答 3—4 题。

3. 对甲乙两国相同点描述正确的是

- A. 位于北温带  
B. 位于东半球  
C. 山河呈南北相间分布  
D. 居民以白色人种为主

4. 小芳一家打算明年暑假赴甲乙两国中的某地旅游,目的地要满足“下雨少,海滨城市,异域风情更浓”的条件,应该选择

- A. 仰光      B. 内比都  
C. 罗马      D. 威尼斯

5. 2019 年 10 月,澳门爱国人士何鸿燊(shēn)将因战争流失海外的

圆明园马首铜像捐赠给国家文物局。导致该文物流失海外的战争是

- A. 鸦片战争      B. 第二次鸦片战争  
C. 甲午战争      D. 日本侵华战争

6. 20 世纪初,来中国访问的美国学者杜威说,要使我们国家十几岁的孩子领导人们展开一场政治改革运动,并使商人和各行各业的人加入他们的队伍,那是难以想象的。杜威所说的“政治改革运动”是指

- A. 维新变法运动      B. 新文化运动  
C. 五四运动      D. 一二·九运动

7. 纪念币是为纪念重大事件而发行的法定货币。图 2 纪念币是为了纪念

- A. 《权利法案》的通过      B. 《人权宣言》的通过  
C. 《独立宣言》的颁布      D. 《解放黑人奴隶宣言》的发表

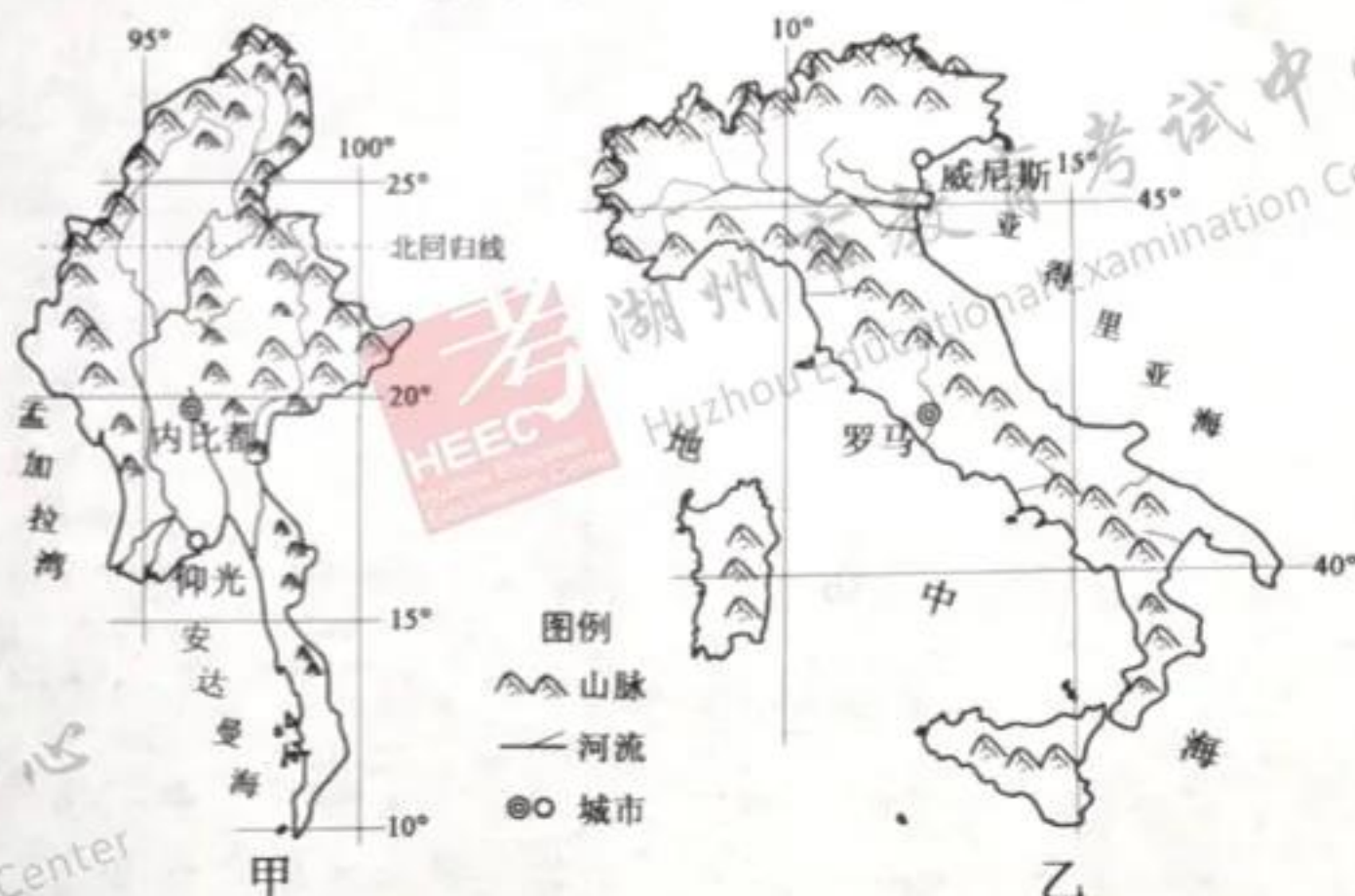


图 1



图 2



8. 毛泽东曾指出：“这一战，不但是苏德战争的转折点，甚至也不但是这次世界反法西斯战争的转折点，而且是整个人类历史的转折点。”“这一战”指的是

- A. 不列颠之战  
B. 斯大林格勒战役  
C. 阿拉曼战役  
D. 柏林战役

9. 为了更好地认识自我，702 班开展了“我眼中的同桌”主题班会活动，诚恳、真切的交流让大家感悟良多。同学们的以下感悟与这一活动主旨最契合的是

- A. 投我以木桃，报之以琼瑶  
B. 走自己的路，让别人去说吧  
C. 要想了解自己，最好问问别人  
D. 众人拾柴火焰高，众人划桨开大船

10. 针对延期开学期间学生出现的烦躁、焦虑等情绪，“湖州 37°C 心理”工作室通过热线电话、电视专题片等多种方式，为青少年撑起一把温暖的心灵守护伞。此举体现了对未成年人的

- A. 家庭保护  
B. 学校保护  
C. 社会保护  
D. 司法保护

11. 历史歌谣传唱历史事件。下列歌谣传唱的历史事件按时间先后排序正确的是

- ①丞相太尉和御史，地方推行郡县制  
②完善三省六部制，科举制度选人才  
③罢黜百家尊儒术，集权削侯分土地  
④仿效汉制治天下，行省制度传后世  
A. ①②③④  
B. ①③②④  
C. ②③①④  
D. ③①④②

12. 红色城市见证革命历程。小丽同学拟设计一项红色研学活动，她选定的以下城市与研学内容搭配正确的是

- ①南昌——人民军队的创建  
②延安——第一个农村革命根据地的建立  
③嘉兴——中国共产党的诞生  
④遵义——党的第一代中央领导集体的形成  
A. ①②③  
B. ①②④  
C. ①③④  
D. ②③④

13. 以下发生在 20 世纪 50 年代的历史场景与社会主义三大改造直接相关的是

- ①上海某工厂厂长参加公私合营股东大会  
②武汉人民庆祝长江上第一座大桥通车  
③大庆石油工人手拉肩扛将钻机运到井场  
④杭州某皮鞋匠加入手工业生产合作社  
A. ①②  
B. ①④  
C. ②③  
D. ③④

“在湖州看见美丽中国。”十五年来，在“两山”理念的指引下，湖州安吉余村走出了一条绿色发展的美丽之路。据此回答 14—15 题。



图 3 开矿“卖石头”



图 4 复绿“卖风景”

14. 不变的是依旧“靠山吃山”，变的是从“卖石头”转为“卖风景”。余村的华丽转身生动诠释了

- ①绿水青山就是金山银山  
②科技有效解决资源短缺问题  
③人与自然可以和谐共生  
④建设生态文明就是造福人类  
A. ①②③  
B. ①②④  
C. ①③④  
D. ②③④



15. 建设美丽中国需要每一位社会成员的自觉行动。下列公民的微行动符合这一要求的是

- ①讲究卫生,多用一次性产品      ②垃圾分类,倡导文明生活的新时尚  
③减少浪费,践行“光盘行动”      ④低碳出行,尽量搭乘公共交通工具  
A. ①②③      B. ①②④      C. ①③④      D. ②③④

16. 右边漫画(图 5)警示我们

- ①沾染毒品,伤及至亲  
②依法自律,防微杜渐  
③拒绝毒品,爱护身体  
④遇到侵害,协商解决

- A. ①②③      B. ①②④      C. ①③④      D. ②③④



图 5

疫情就是命令,防控就是责任。面对突如其来的新冠肺炎疫情,中国人民上下同心,众志成城,取得了疫情防控的重大战略成果。据此回答 17—19 题。

17. “保护人民生命安全和身体健康,我们可以不惜一切代价!”习近平总书记的铿锵话语彰显的价值理念有

- ①生命高于一切      ②创新驱动发展      ③以人民为中心      ④司法维护正义  
A. ①②      B. ①③      C. ②④      D. ③④

18. “我先去!”“让我上!”在湖北疫情最严重的时候,全国各地的 42000 多名医护人员白衣执甲,逆行出征。这些“逆行者”的可敬之处在于

- ①爱岗敬业,平凡中创造伟大      ②争先恐后,追求个人荣誉  
③勇担责任,不言代价与回报      ④服务社会,实现人生价值

- A. ①②③      B. ①②④      C. ①③④      D. ②③④

19. “我命由我不由天!”这是某地高三学生因本地接连出现确诊病例而被迫再次停课时,喊出的坚定心声。在他们身上,我们感受到了

- ①自由的可贵      ②乐观的心态      ③友谊的力量      ④坚强的意志  
A. ①③      B. ①④      C. ②③      D. ②④

20. 2020 年 5 月,十三届全国人大三次会议表决通过《中华人民共和国民法典》。这部被誉为“社会生活百科全书”的法律,编纂过程中先后 10 次向社会公开征求意见,累计收到意见和建议 102 万条。该法典的编纂过程鲜明体现了

- ①人大监督,促政府依法行政      ②国家制定,以法律代替道德  
③公众参与,使决策更加民主      ④科学立法,让法律彰显民意  
A. ①②      B. ①③      C. ②④      D. ③④

21. 香港女企业家伍淑清被评为 2019 年感动中国人物。40 年来,她致力于香港和内地的交流合作,积极增进香港青年对中华历史文化的认识,引导青年树立以我是中国人为荣的观念。伍淑清感动我们的有

- ①高扬爱国主义旗帜      ②自觉维护国家利益  
③坚守中华文化立场      ④坚持民族区域自治  
A. ①②③      B. ①②④      C. ①③④      D. ②③④



## 二、非选择题(本题有 5 小题,共 48 分。)

22. (8 分)阅读材料,回答问题。

雁鸣闻三国,笑语传三邦。吉林省珲春市凭借其独特的地理位置引来八方游客,2020 年 4 月入选中国夏季休闲百佳县市。

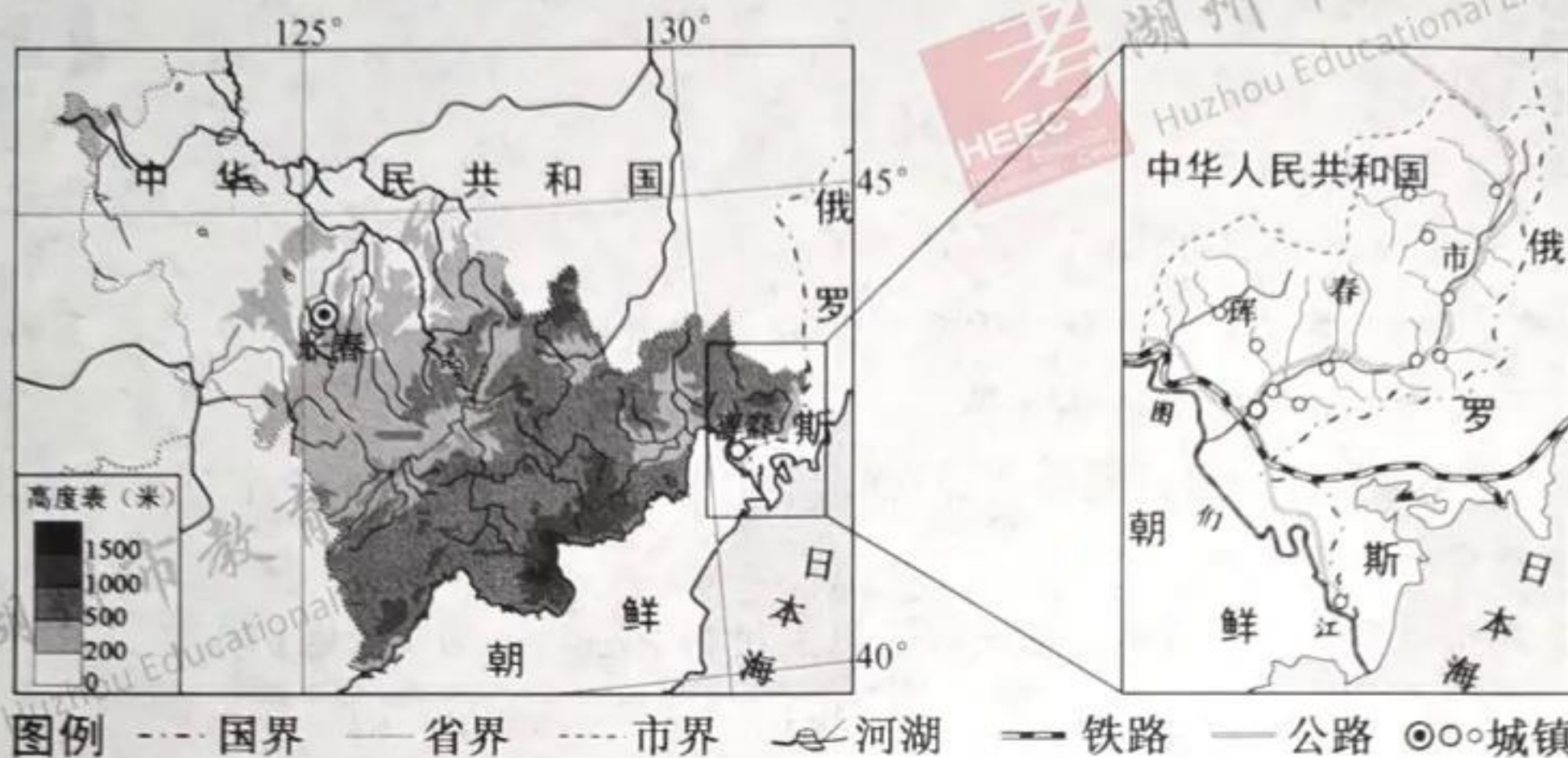


图 6 吉林省及周边地区示意图

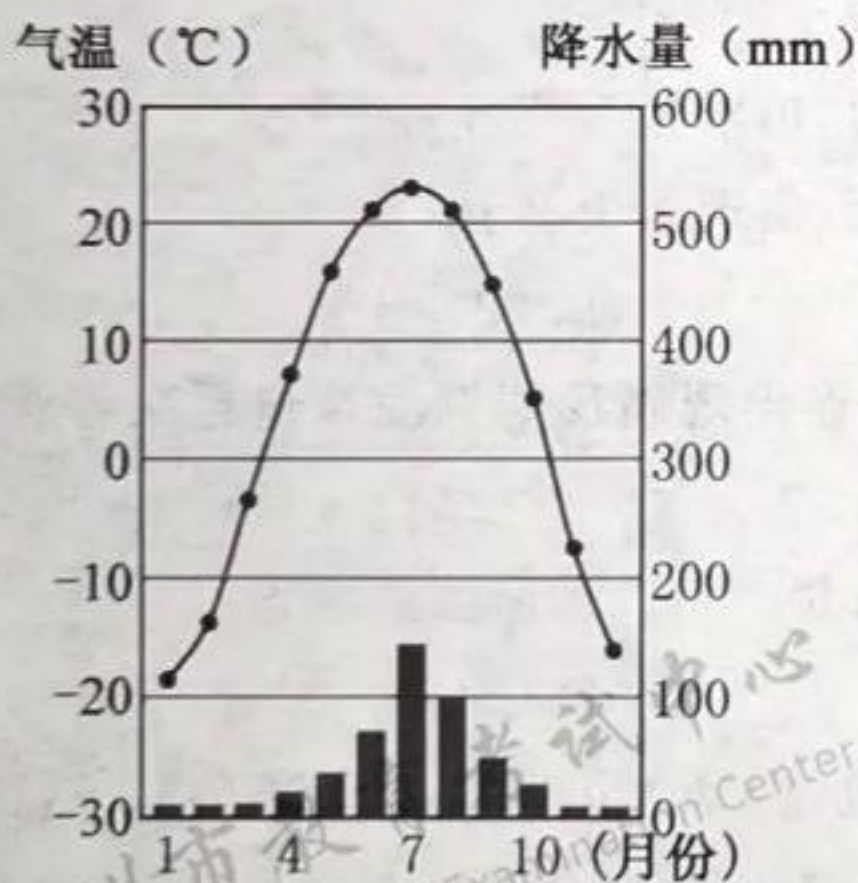


图 7 长春的气温与降水量

## 资料卡

## 吉林省内河运输概况

据统计,吉林省水运客运量占综合运输的比例为 0.2%~0.4%,水运货运量占综合运输的比例为 0.4%~0.6%。

(1)根据图 6,描述珲春市地理位置的独特性及其城镇的分布特点。(4 分)

(2)根据资料卡,概括吉林省内河运输的特点,并根据图 6、图 7 分析其自然原因。(4 分)



23. (8分) 阅读材料, 回答问题。

《话说湖州》一书提出了“宋以后的湖州是天下粮仓”的观点。为证实这一观点, 小建同学搜集了以下资料。



资料一:《御制耕织图》(局部), 原为南宋楼璩(shù)所作。图中“江东犁”是湖州先人所创, 唐代以后开始普及。



资料二: 淞港, 始建于春秋时期, 完善于北宋, 是当地劳动人民创造的一项独特的水利工程。

(1) 请从上述资料中找出支持这一观点的证据并予以说明。(4分)

(2) 结合所学历史知识, 提供支持这一观点的其他证据。(2分)

(3) 如果要进一步证实这一观点, 他还可以怎么做?(2分)

24. (10分) 阅读材料, 回答问题。

百年京张线见证了中国自主设计建设第一条“争气路”到成为智能高铁“先行者”的历程。

### 一封书信

亲爱的诺索布夫人:

我承担修建京张铁路是很幸运的。现在的中国已经逐渐觉醒, 急需修建铁路……用自己的资金, 由中国人设计、建造。

在我接受这项任务前后, 很多外国人都已经宣称中国和中国工程师没有能力承担这么艰巨的任务……

我全力以赴, 至今已经修成一段。随信附上一份简报, 使您知道当年纽黑文(注: 在美国康涅狄格州)的一位中国幼童在您的监护下成长起来, 现在正在承担一项重要的任务, 并竭力完成。

詹天佑

1906年10月



——节选自杨红光《大国速度》

### 一份议案

关于保留百年京张铁路历史风貌

建设铁路遗址公园的建议



随着京张高铁工程推进, 百年京张铁路已在分段拆除, 保护工作已是刻不容缓。

京张铁路是由中国人自行设计和建造的第一条铁路, 作为工业文明走进中国的象征, 京张铁路映射着中国百年发展的年轮, 这是历史留给我们最宝贵和最有价值的一份遗产……

鉴于京张铁路特殊的历史地位, 我建议: 保留京张铁路的历史风貌, 建一个京张铁路遗址公园。

中国工程院院士 王梦恕

2017年3月

——摘编自《北京晚报》

(1) 詹天佑幼年在纽黑文的学习经历与中国历史上哪一事件直接相关?(2分)

(2) 根据“一封书信”, 简述詹天佑主持修建京张铁路的时代背景。(4分)

(3) 结合“一份议案”, 从文化软实力的角度说说建立京张铁路遗址公园的意义。(4分)



25. (10 分) 阅读材料, 回答问题。



图 8 “爱憎分明”



图 9 “自由”代价

(1) 请绘制一幅体现“权利、义务、劳动、受教育”四者关系的示意图来说明图 8 的“爱憎分明”是无法实现的。(4 分)(本小题采用分层评分, 示意图须紧扣要求, 准确直观, 逻辑严密。)

(2) 结合图 9, 运用权利与义务关系的知识, 进一步分析漫画主人公这样的“爱憎分明”要不得。(6 分)

26. (12 分) 阅读材料, 回答问题。

为解决疫情造成的农产品滞销难题, 以县长为代表的政府官员纷纷化身“网络带货主播”, 为农产品“代言”。“县长直播带货”成为时下中国互联网上的一道新景观。

### 农户心声

县长亲自为我们的农产品代言, 我们一定要拿出最好的东西, 绝不能以次充好, 见利忘义。疫情过后, 大伙儿一定会不误农时, 抢收补种, 把前期的损失补回来。

### 网友行动

因为疫情, 很多农户失去了经济来源, 政府官员通过网络直播带货, 既是在战“疫”, 也是在战“贫”。现在大家踊跃下单, 这也算是我们对农民朋友的一份小小的支持!

### 县长感言

今天直播带货 2 小时, 成交订单 3 万多笔, 金额 100 多万元, 既卖出了农产品, 也推介了我县的历史文化和旅游资源。这么拼, 就是想为老百姓尽一份政府的责任!

(1) 农户的朴素心声折射出哪些中华传统美德?(2 分)

(2) 从关爱他人角度, 说说网友踊跃下单的行为给我们的启示。(4 分)

(3) 联系上述材料, 多角度分析“县长直播带货”的积极意义。(6 分)