

历史试题

本试卷满分 100 分,考试时间 75 分钟。

一、选择题:本题共 16 小题,每小题 3 分,共 48 分。在每小题给出的四个选项中,只有一项是符合题目要求的。

- 考古学者认为,山西省芮城县清凉寺墓地第三期遗存具有龙山文化特征。其中,部分大型墓存在殉人现象,有玉器和彩绘陶器等随葬品,而仅可容身的小型墓无随葬品。据此推知,当时 ()
 - 礼乐制度初步形成
 - 祭祀仪式规范
 - 奴隶制国家已出现
 - 阶层分化明显
- 北魏孝文帝任命元桢担任长安镇都大将、雍州刺史。出任前,孝文帝称赞元桢“孝行著于私庭,令问彰于邦国”,并告诫他到任后要绥抚饥民,切勿“恃亲骄矜,违礼僭度”。这反映出孝文帝 ()
 - 崇尚儒家礼教
 - 倚重士族支持
 - 重视军政建设
 - 维护宗室特权
- 唐弘道元年(683),侍中裴炎改任中书令,将原设在门下省的政事堂迁至中书省。神龙元年(705),豆卢钦望担任尚书右仆射,因未获得“同中书门下三品”的称号而无法参加宰相议事会议。这说明唐代 ()
 - 宰相的行政权力进一步加强
 - 政事堂成为三省权力核心
 - 中枢机构呈现出一体化趋势
 - 三省长官可共同商议国政
- 元代北方的散曲是宋词与北方各民族乐曲的综合产物。其在句式上可根据需要增添衬字;内容上运用大量方言、俚语,语言表现更加自由。这 ()
 - 反映了城市经济的繁荣
 - 体现了多元文化的融汇
 - 得益于市民阶层的兴起
 - 受到了儒学复兴的影响

5. 表 1 清代雍正至乾隆时期云南等三省及全国(各省)人丁数统计表(单位:口)

	云南	广西	贵州	全国(各省)
雍正二年(1724)	145 240	202 711	21 388	25 284 818
乾隆十四年(1749)	1 946 173	3 687 725	3 075 111	177 495 039
乾隆三十二年(1767)	2 148 597	4 706 176	3 441 656	209 839 546



表 1 中三省人口变化的主要原因是

()

- A. 自然环境的改造
- B. 摊丁入亩的实施
- C. 改土归流的推行
- D. 高产作物的推广

6. 1905 年前后,外务部陆续收到绅商、华侨、学生等群体发来的电报,内容涉及外国强占领土、革新政治等。清政府对部分电报限收后,《新闻报》《申报》等报纸设立“公电”栏目对电报内容予以刊载。据此可知,近代传媒

()

- A. 助力民众表达救亡诉求
- B. 促使改良派转向革命
- C. 推动清政府的政治改革
- D. 加速外交政策的转变

7. 1923 年 9 月,瞿秋白在《自民权主义至社会主义》中指出,“要劳工阶级真正彻底觉悟资产阶级假民权主义的不可信,决不是几本书可以办到”,而必须积累“实际普遍的政治经验”。这表明早期中国共产党人认识到应该

()

- A. 制定民主革命纲领
- B. 引导群众理论联系实际
- C. 推翻资产阶级专政
- D. 发动工人投身革命斗争

8. 1948 年 11 月,中共冀中区党委指出,由于此前区党委“没有认识到城市工作的重要”,今后城市工作总的方针“就是贯彻政策,发展经济,加强城市建设与管理,认真的解决贫苦市民生活(问题)……从多方面建设我们的城市”。这一方针旨在

()

- A. 激发人民支援前线的热情
- B. 适应解放区建设的新形势
- C. 提高干部管理城市的水平
- D. 推动城乡经济结构的转变

9. 1953 年,农业部决定在全国范围内试办国营农业机器拖拉机站,帮助组织起来的农民耕种、收割。机耕土地的粮棉产量普遍高于传统耕种土地粮棉产量的 30% 以上。这对很多尚未入社的农民触动很大,他们纷纷要求加入合作社。这有利于

()

- A. 农村经济全面恢复
- B. 土地改革顺利进行
- C. 农村生产关系变革
- D. 农业机械化的实现



	1977 年	1988 年	1991 年
工业总产值	3725	18 224.58	26 625
国有工业	2869.37	10 351.28	14 955
集体工业	855.63	6587.49	8783
城乡个体工业		790.49	1287
其他经济类型工业		495.82	1600

表 2 中的数据变化说明,这一时期我国

()

- A. 工业布局调整效果显著
- B. 市场经济起主导作用
- C. 现代企业制度不断完善
- D. 所有制结构逐步优化

11. 波斯帝国早期,被征服地区的许多官吏、制度得到保留,外族的文字、宗教广泛传播。大流士登上王位后发起改革,推广波斯人主导的行省、军区制度,用波斯文字刻写国家的重要铭文,立波斯人信奉的祆教为国教。大流士上述举措的顺利实施

()

- A. 扩大了波斯文明的影响
- B. 缓和了外族与波斯人的矛盾
- C. 完善了帝国的官僚体系
- D. 革除了西亚君主制度的积弊

12. 13 世纪中叶,法国的一些贵族和富裕市民热衷于穿着精美的服装。1279 年,国王腓力三世专门颁布法令,规定了男性每年购买长袍的数量:大领主可购 5 件,贵族和宫廷侍从可购 2 至 4 件,财产超过 1000 利弗尔的市民可购 1 件。由此可见,在当时的法国

()

- A. 市民地位上升
- B. 手工工场兴起
- C. 社会等级分明
- D. 贵族特权加强

13. 16 世纪,意大利人巴尔巴罗为校订、翻译古罗马建筑论著,曾向一位泥瓦匠出身的建筑师寻求帮助;德意志人阿格里科拉在撰写关于采矿的著作时,吸收了矿工传授的知识。这些学者

()

- A. 注重提升人的社会地位
- B. 复兴了希腊罗马古典文化
- C. 重视发挥人的聪明才智
- D. 推动了人文主义教育兴盛



14. 1812年,英国格拉斯哥商会对从事美洲贸易的商人表示感谢,因为他们不仅扩展了烟草、棉花等贸易,而且“不惜花费大量时间支持创办我们这个城市的制造业”。这些制造业“现在为整个王国带来很大好处”。这表明

()

- A. 新型特许公司促进了美洲贸易
- B. 英国制造业与大西洋贸易联系密切
- C. 英国依托制造业成为“世界工厂”
- D. 资本输出成为英国扩张的主要形式

15. 图1是1942年的一幅苏联宣传画,描绘的情景是:乌拉尔生产的钢铁被制造成炸弹,摧毁了前线的德军坦克。该宣传画反映出

()



图1

- A. 敌后民众以钢铁般意志抵抗侵略
- B. 苏联为反法西斯战争付出了巨大牺牲
- C. 苏军进攻扭转了苏德战场的形势
- D. 工业化为争取卫国战争胜利创造条件

16. 1971年8月15日,美国宣布中止美元与黄金的兑换关系。针对这一状况,法国总统蓬皮杜和西德总理勃兰特在12月初举行会晤,同意在国际货币体系改革进程中,缩小欧共同体成员国间的汇率波动幅度。法德首脑达成的共识

()

- A. 缓解了当时严重的经济危机
- B. 有利于欧洲推进经济一体化
- C. 反映出摆脱美国控制的意愿
- D. 加速了布雷顿森林体系崩溃

二、非选择题:本题共4小题,共52分。

17. 阅读材料,完成下列要求。(14分)

材料一 在秦汉人的意识中,珍珠是重要的海洋资源。秦朝曾设置名为“采珠”的职官,对珍珠开采进行管理。汉初,社会上层对珍珠颇为偏爱,形成“众贵之”的社会倾向。但是,汉景帝基于现实考量,下诏禁止官吏征发民众开采“黄金珠玉”。汉武帝平定南越后,设置合浦、珠崖等郡。合浦郡因农田少,“不产谷实,而海出珠宝”,所以百姓常以珠贸粮,甚至有人“采珠致产数百万”。东汉时期,合浦郡太守孟尝要求百姓适度开采珍珠,确保能够长期利用珍珠资源,以维持生业,从而保持“商货流通”。

——摘编自王子今《秦汉海洋文化研究》等



材料二 根据珍珠生长规律,明朝设置了间隔开采的制度。明前期,官方开采珍珠基本控制在十年一采,甚至三十年一采,收获量非常大;后期多次突破旧制,频繁开采,以至明末合浦几乎无珍珠可采。明朝沿用宋元以来的职业开采及分户管理制度,部分疍户成为南海珍珠专采制度下的职业户。由于潜水采捕具有危险性,为了保障安全、提高效率,疍户不断更新采捕技术。改良过的潜水捕捞法,增加了防护设备,延长了水中开采珍珠的时间。

——摘编自侯甬坚等编著《中国环境通史》

(1)根据材料一并结合所学知识,从珍珠开采业的发展,分析秦汉时期的国家治理。(8分)

(2)根据材料并结合所学知识,总结中国古代珍珠开采的历史经验和教训。(6分)



18. 阅读材料,完成下列要求。(12分)

材料一 抗日战争时期,日军占领山西大部后,陕甘宁边区军民与日军隔黄河对峙。1938年至1940年,日军向边区河防阵地发起过数十次进攻,企图强渡黄河、摧毁边区。八路军留守兵团以及三五九旅在边区人民群众支持下,修筑了上千里的坚固河防工事。八路军经过七十余次大小战斗,侧后出击、“半渡而击”,粉碎了日军的进攻,取得了河防保卫战的胜利。

——摘编自西北五省区编纂领导小组编《陕甘宁边区抗日民主根据地·回忆录卷》

材料二 1937年9月,陕甘宁边区政府成立。边区西接甘肃、宁夏,北接绥远,东邻山西,成为保卫西北的锁钥、控制华北与西北的战略支点,也是坚持全民族抗战的重要后方。晋、陕间的黄河河段是边区通向各抗日根据地的唯一通道。边区的食盐、皮毛、石碱、毛织品等通过此河段运至山西碛口等地,再销往其他地区。边区需要的棉花、纸张、五金、颜料等,大部分也由此输入。

——摘编自陕西省档案馆等编《陕甘宁边区政府文件选编》等

(1)根据材料一,概括陕甘宁边区取得河防保卫战胜利的原因。(6分)

(2)根据材料并结合所学知识,说明陕甘宁边区河防保卫战胜利的意义。(6分)



19. 阅读材料,完成下列要求。(14分)

材料一 近代以来,西方对非洲的认知经历了一个演变过程。15世纪,欧洲殖民者侵入非洲海岸地区,他们在游记中对非洲的描述存在着种族主义偏见。19世纪30至90年代,西方国家有组织地开展了大规模的非洲内陆考察活动,搜集了丰富的地理和人文资料,为殖民者提供了商品市场和自然资源的情报。20世纪中期,西方逐渐从非洲大陆退出,为谋求仍能对非洲国家保持影响,他们的非洲研究扩展到政治、经济、法律、历史、教育等领域,并呈现出综合化趋势。

——摘编自(布基纳法索)J.基-泽博主编《非洲通史》等

材料二 中国人认识非洲甚早,唐代《经行记》和宋代《诸蕃志》都有关于非洲的记载。新中国成立以来,中非交往与合作的持续展开促使中国人进一步认识、研究非洲。万隆会议后,中国积极支持和援助非洲,成立了相关研究机构。改革开放后,中国经济的发展及中非经济联系的加强,使学者们有了更多实地调研、国际交流的机会。中国的非洲研究范围不断扩大,也满足了政府、企业和民众详细了解非洲的需求。近些年来,学者们客观看待非洲对世界文明的贡献,强调非洲人的历史主体性,同时“互利共赢”“和谐世界”等中国话语概念也逐渐被非洲学者所采用。

——摘编自刘鸿武《“非洲学”的演进形态及其中国路径》等

(1)根据材料一并结合所学知识,概括西方关于非洲认知的特点。(8分)

(2)根据材料并结合所学知识,阐述中国的非洲研究的历史使命。(6分)



20. 阅读材料,完成下列要求。(12分)

材料 《周易》云:“天地交而万物通也,上下交而其志同也。”交通,有“交和会通”之意。历史的进步因交通而实现,人类的文明因交往交流交融而发展。图2反映了某学者以“交通”为主题认识历史的思维过程。

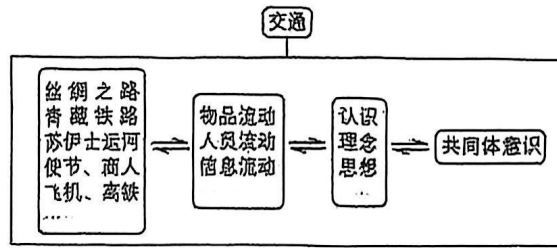


图2

选取“交通”之外的任一主题,参照图2认识历史的思维过程,结合所学历史知识,拟定一个论题并加以阐释。(要求:明确写出所选主题,史观正确,论题明确,史论结合,逻辑严谨,表述清晰。)



历史试题

本试卷满分 100 分,考试时间 75 分钟。

一、单项选择题:共 15 题,每题 3 分,共 45 分。每题只有一个选项最符合题意。

1. 新石器时代晚期,镶嵌绿松石的玉石器在葬仪和祭祀中扮演重要角色。绿松石的镶嵌方法中最具代表性的有孔嵌法和平面镶嵌法。孔嵌法沿黄河自东向西传播;平面镶嵌法与之相反,从甘肃、青海地区向黄河中下游传播。这可用于印证 ()

- A. 南北方生产工艺的融合
- B. 母系氏族社会审美的改变
- C. 原始文化的传播与交流
- D. 阶级社会等级秩序的建立

2. “岳麓秦简”中记录的秦人丈量土地时计算圆面积的 4 种简易方法,可与《九章算术》“周三径一”的算法互证,展现出古老简牍里的科技之光。这体现了 ()

- A. 秦朝政府重视卜筮之术
- B. 先民对自然规律的探索
- C. 手工业生产的实际需求
- D. 国家推行均田制的努力

3. 汉画像砖是模印或捺印有图像的砖,风格处于绘画与雕塑之间。图 1 是一幅表现劳动人民插秧场景的画像砖拓片。该图 ()



图 1

- A. 反映了坞堡庄园经济的具体特点
- B. 佐证了古代农业生产技术的成熟
- C. 表现了“以形写神”的绘画风格
- D. 提供了研究汉代经济的史料依据

4. 晋朝葛洪著《肘后备急方》,其“肘后”者,犹言“袖珍”,意为可藏于手肘之后;“备急”者,“预先备办临急可用之要方”。唐朝孙思邈认为,“人命至重,有贵千金”,遂著成《千金方》。两书取名的要义共同反映出,中医学注重 ()

- A. 以人为本的价值追求

- B. 对药物功用的理论总结
- C. 人与自然的有机联系
- D. 药方与辨证施治的结合

5. 表 1 呈现的是明代小说中描写商业活动的片段。该表折射出当时 ()

表 1

作品	内容
《警世通言》	南京国子监监生孙富“徽州新安人氏,家资巨万”,世代在扬州经营盐业
《杜骗新书》	徽州人吴胜理“在苏州府开铺,收买各样色布,揭行生意最大,四方买者极多,每日有几十两银交易”
《石点头》	在扬州,来元(人名)“走到一个典铺里来当银,这典铺是姓程的徽州人所开”

- A. 白银资本催生典当业
- B. 徽商热衷资助文学创作
- C. 地域性商人群体活跃
- D. 货物交易依赖长途贩运

6. 1898 年,甲午进士李家驹赴日本考察学务,认识到体育的重要性。1906 年,他出任京师大学堂总监督。同年,在学堂举办的运动会上,李家驹脱下官袍,参加短跑比赛,轰动一时。他的举动受到开明报章的大力揄扬,带动了中国学校体育运动的发展。这反映出 ()

- A. 教育领域的嬗变革新
- B. 欧美体育运动开始传入
- C. 清末新政取得了成功
- D. 新学堂与科举制的对立

7. 一战前后,中国新式农场得到发展。在江苏,张謇创办的通海垦牧公司实行股份制,“废灶兴垦”;在黑龙江,以浙江财阀为背景的农场从俄国购入拖拉机,用于耕作。这些现象说明 ()

- A. 资本主义经营方式的扩展



- B. 北洋政府急于改善财政状况
- C. 民族工业在全国均衡发展
- D. 实业救国思想被各阶层接受

8. 图 2 是《救国时报》1937 年 5 月 23 日刊登的一幅画作。画中士兵手举抗日联军旗帜，头戴布琼尼军帽（曾是苏联红军战士的标配），与日寇英勇战斗。该画作意在表现 ()



图 2

- A. 全民族团结抗战局面的形成
- B. 抗日联军后勤装备保障充足
- C. 苏军进入东北支援中国抗战
- D. 中国共产党收复失地的信念

9. 1978 年，香港“船王”包玉刚表示愿意捐 1000 万美元在北京建一座饭店，同时表达了以他父亲名字命名的愿望。邓小平同志果断拍板同意。1985 年，兆龙饭店落成，邓小平同志破例出席开幕典礼。这表明当时中国 ()

- A. 推行市场经济迫在眉睫
- B. 坚持对外开放毫不动摇
- C. 提出了建立经济特区的设想
- D. 实行“引进来”“走出去”战略

10. 近代以来，中国学者开始关注埃及古文字。受条件所限，他们推断“原始造字之意，六者俱备，原无分于中外也”。1905 年，湖南巡抚端方出考察宪政时途经埃及，拓印了不少碑文，让国人有了确切的研究材料，图 3 是其中的一幅。由此可知 ()



图 3 端方题埃及象形文字拓本

- A. 中埃古文字的造字方法相同
- B. 两国有相似的历史文化内涵
- C. 不同文明之间需要理解交流
- D. 清朝官员接受西方政治思想

11. 中世纪前期，西欧农奴的生活十分困苦。一顿上好的饭食“通常由两道饭菜组成，一道是粥状的麦糊，一道是麦糊状的粥”。到 13 世纪，由于饥馑出现的次数大为减少，且饮食中增加了豆类，农奴变得强壮。这一变化缘于 ()

- A. 城市发展的影响
- B. 社会秩序趋于稳定

- C. 美洲物种的传入
- D. 封君封臣制度解体

12. 伏尔泰在《路易十四时代》中描写了有关巴士底狱神秘囚犯“铁面人”的逸闻。此人总戴着面具，没人知道他的真实姓名、所犯何罪。该书出版后引起很大的反响，“铁面人”的传闻逐渐在民众中“创造一个无限专横权力的想象世界”。这 ()

- A. 有利于出版行业的兴起
- B. 引发了民众攻占巴士底狱
- C. 推动了启蒙运动的产生
- D. 冲击了封建君主专制统治

13. 19 世纪七八十年代，印度人经营的棉纺织工厂由 61 家增至 156 家。民众希望进一步开拓国货市场。1896 年，加尔各答举办了国货博览会。1906 年，提拉克向人民呼吁：“你们的未来掌握在自己手中……从明天起你们就自由了。”这表明印度 ()

- A. 传统棉纺织业得到迅速发展
- B. 民族解放运动取得初步胜利
- C. 民族资产阶级获得广泛支持
- D. 经济发展推动民族意识增强

14. T-34 坦克曾是苏联的主战坦克，其总设计师科什金力主采用倾斜式前装甲板，使得防护性能大为提高。1940 年 2 月，他带病与团队将样车开到莫斯科参加测试，坦克获批量产。他却因坚持工作导致病情加重而去世。由此可知，科什金的研发活动 ()

- A. 得益于国家灵活的管理体制
- B. 彰显了苏联世界第一的国力
- C. 体现了科技人员的奉献精神
- D. 改变了国际关系的整体走向

15. 20 世纪 50 年代，美国出版的《兔子婚礼》讲述了白兔和黑兔相爱的童话故事。该书传递出“爱不分肤色”的理念，却在 1958 年遭到南方阿拉巴马州“白人公民委员会”的强烈抗议，被禁止发行。这说明美国 ()

- A. 违背了尊重人权的原则
- B. 南方仍部分保留奴隶制
- C. 动物保护主义思想盛行
- D. 文学领域恪守陈旧观念



二、非选择题:共4题,共55分。

16. (16分)阅读材料,完成下列要求。

材料一 蔡襄是北宋著名政治家。他任福州知府时,修复五塘等水利设施,“以溉民田,民以为利”。他知泉州时,晋江县东南有龟湖塘,环塘而居的有林、黄、苏、郑四姓,天旱时常因用水纠纷引起械斗。蔡襄为此制定《龟湖塘规》,规定由四姓分管堤岸。据《晋江县志》记载,自蔡襄制定塘规后至明朝五百年间,粮食增产常二三倍于他乡。乡人称他为“近郭水利之最大者”。

——摘编自蔡金发主编《蔡襄及其家世》等

材料二 道光年间,林则徐主政江苏十余载,以治水为要务,足迹遍及全省各地。苏州府、松江府境内的江河淤塞成患,林则徐主持疏浚娄江、白茆河,首创“海口筑坝设闸”之法,外御海潮倒灌,内泄洪涝入海。他主张“以工代赈”,征民夫浚河,既解民饥馑又治水患。林则徐带人在丹阳上下练湖之间挑挖引河,确保漕运畅通。百姓感念“林公过处,水患化甘霖”。

——摘编自杨国桢《林则徐传》等

材料三 广东雷州半岛,由于缺乏蓄水工程,雨季常常泛滥,旱季土地龟裂。为解决群众困难,在党的领导下,湛江地方政府决定修建水库和运河。从1958年起,湛江先后动员30万人,90%是35岁以下的青年。施工中除使用少量现代机械外,技术人员还自制空中运土车、牵引车等,大大提高了工作效率。他们建成了鹤地水库,开凿了贯穿雷州半岛的“青年运河”,结束了十年九旱的局面。

——摘编自黄圣《湛江雷州青年运河志》等

- (1)根据材料一、二,分别概括蔡襄和林则徐治水的举措。(6分)
- (2)根据材料三,概括指出湛江治水的特点。(6分)
- (3)根据材料一、二、三并结合所学知识,归纳古今治水的共同经验。(4分)

17. (14分)阅读材料,完成下列要求。

材料 《尚书·禹贡》中“禹别九州”蕴含着“中国一统”的理想建构。唐朝杜佑的《通典·州郡》“以九州为纲”延续了《禹贡》九州的认知。两宋以前,“九州”的中心区域在河洛地区。从元朝开始,南北混一,各民族进一步交往交流交融,突破了《禹贡》九州范围的认知,幽燕地区成为新的中心区域,到清朝前中期中国实现了空前的大一统。

——摘编自李治安《元明清“华夷一统”到“中华一统”的话语转换》等

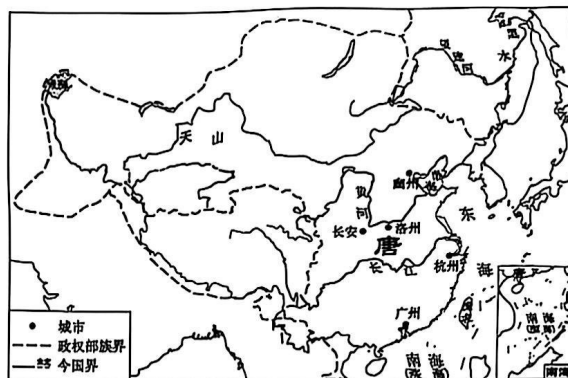


图4 唐朝形势图(669年)

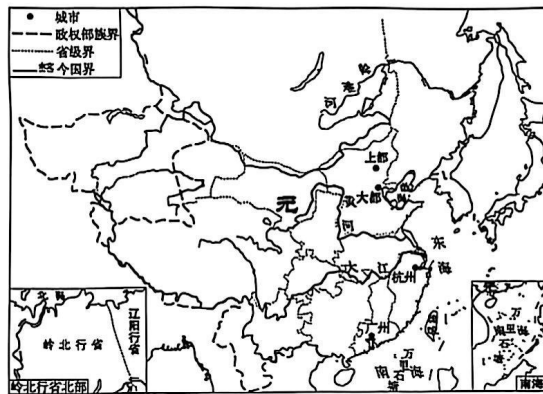


图5 元朝形势图(1330年)

根据材料,用斜线“//////”分别在答题卡上的图4、图5中标示出当时“九州”的中心区域;(要求:每图限标一处,范围大小适中)结合中国古代史知识,就“九州”的认知写一篇历史短文。(要求:论题明确、史论结合、逻辑严谨、表述成文)



18. (12分) 阅读材料, 完成下列要求。

材料 “下江人”主要指抗日战争时期由上海、江浙等地迁移到重庆等西南大后方的移民群体。1937年以来, 上海、江浙等地相继沦陷, 大批民众向西南地区内迁。随着移民的到来, 重庆的下江馆子乘时崛起, 苏州、常州式的小馒头、汤包成为常见的食物。街头“市招飘展, 不书南京, 即书上海”“南北方言, 溢洋于耳”, 本地人的方言也多了些国语味道。下江人穿西装旗袍、涂口红等时髦装扮也受到追捧。重庆因下江人的迁入, 在市政、交通等现代化建设方面有了较大发展, 逐步形成“小上海”风格。随着本地人与下江人不断接触, 他们追求婚姻自由、男女平等, 共同投身于抗战和大后方建设。

——摘编自《张恨水说重庆》等

- (1) 根据材料, 指出“下江人”移民的特点。(5分)
- (2) 根据材料并结合所学知识, 说明“下江人”移民重庆的积极作用。(7分)

19. (13分) 柯布西耶是法国著名建筑师。1923年, 他在《走向新建筑》一书中提出建筑革命的主张, 对20世纪建筑影响巨大。阅读材料, 完成下列要求。

材料 现代的建筑关心住宅, 为普通而平常的人关心普通而平常的住宅……在这个革新的时期, 建筑的首要任务是提出对价值的修正, 并重新修正住宅的组成要素……建筑的历史, 在过去的许多世纪里, 只在构造上和装饰上缓慢地演变, 但是最近的50年以来, 钢铁和混凝土一路高歌猛进, 建造能力有了巨大提高, 一些古老的建筑法则为之所抛弃。与过去相比较, 我们就会发现那些“风格”对我们来说已经不复存在了, 一种属于我们时代的风格已经建立起来, 这就是革命。

——(法) 柯布西耶《走向新建筑》

- (1) 根据材料, 柯布西耶建筑革命的主张是革新建筑的价值、▲和▲。(2分)
- (2) 根据材料并结合所学知识, 说明柯布西耶提出建筑革命的历史背景。(6分)
- (3) 根据材料并结合所学知识, 简析柯布西耶建筑革命主张的影响。(5分)

