

南昌市三校（南昌一中、南昌十中、南铁一中）高三第四次联考试卷

文综能力测试

命题：南铁一中

考试时间：2017 年 2 月 6 日

试卷总分：300 分

第 I 卷（选择题 共 140 分）

本卷共 35 个小题，每小题 4 分，共 140 分。在每小题给出的四个选项中，只有一项是符合题目要求的。

兰新高铁开通运营后，沿线西部城市嘉峪关全面融入西宁、兰州、乌鲁木齐 3 个省会城市的经济圈，区域性中心地位迅速提升，仅高铁开通的前 9 个月全社会旅游收入就实现同比增长 36%，旅游人数同比增长 38%。下图为兰新高铁及兰新铁路局部路段景观图，读图完成 1-3 题。

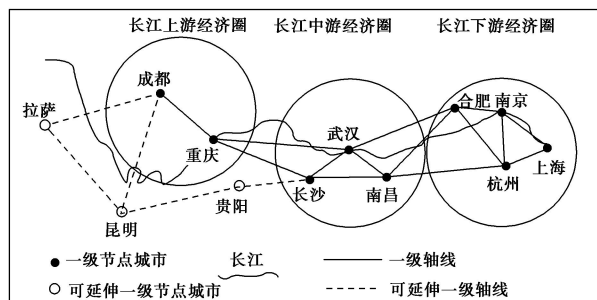


1. 兰新高铁沿线防护设施的主要作用是（ ）
A. 防噪音 B. 防滑坡 C. 防强风 D. 防洪水
2. 兰新高铁的建设在西宁段遇到的不利自然条件是（ ）
A. 冻土 B. 冻雨 C. 干旱 D. 泥石流
3. 兰新高铁运营后产生的有利影响是（ ）
①促进兰州产业向外转移 ②缓解兰新铁路的货运压力
③推动该区域产业向技术密集型转变 ④促进该区域产业结构的调整
A. ①② B. ①④ C. ②③ D. ②④

第十二届昌平区苹果文化节上，市民们见到树体矮小、幼童伸手可摘的苹果树。“矮化密植”技术使果树树冠缩小，结果更早、更多，含糖量更高。据此回答 4-6 题。

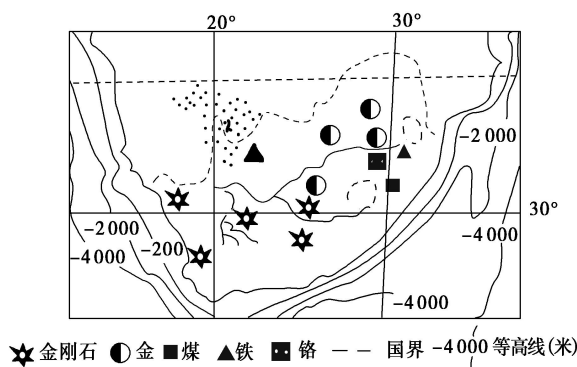
4. 与传统种植方式相比，“矮化密植”技术（ ）
①充分利用了光热条件 ②提高了土壤肥力
③降低了科技投入 ④改良了作物品种
A. ①③ B. ①④ C. ②③ D. ②④
5. 近年来京郊农村纷纷举办集商贸、旅游于一体的“文化节”，该模式主要基于（ ）
A. 政策支持 B. 民俗传统 C. 技术进步 D. 交通改善
6. 本届苹果文化节上还引入“互联网+”的形式，大量苹果微店的开通（ ）
A. 拓展了销售市场，提高了经济收益 B. 宣传了苹果文化，提升了市民素质
C. 应用了网络技术，提升了政府业绩 D. 便利了产销沟通，提高了产品价格

下图为“长江经济带示意图”。读图，回答 7-9 题。

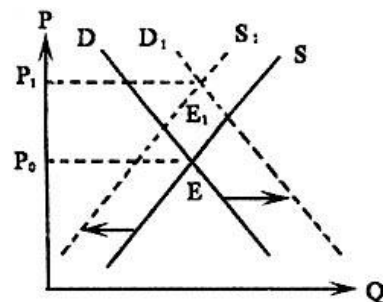


7. 长江流域应 ()
- A. 在上游区大力提高航运能力 B. 在下游区进行水能梯级开发
- C. 注重保护调水工程的水源地 D. 扩大全流域水库的防洪库容
8. 长江下游经济圈较上游经济圈 ()
- ①工农业基础好 ②水能资源丰富 ③矿产资源丰富 ④经济腹地广大 ⑤交通便利
- A. ①②③ B. ①④⑤ C. ①②⑤ D. ③④⑤
9. 图中城市 ()
- A. 重庆和杭州的城市等级相同 B. 武汉比昆明提供的服务种类多
- C. 成都和拉萨的城市规模相同 D. 上海市服务功能强, 辐射全国

南非是非洲经济最发达的国家, 是我国在该大洲的最大贸易国。下图为非洲南部部分区域图, 读图回答 10~11 题。



10. 南非渔业资源西部海域较东部海域丰富, 关于其成因的叙述正确的是 ()
- ①西部大陆架较宽广 ②西部光照较充足 ③西部受寒流(上升流)的影响 ④西部受寒暖流交汇的影响 ⑤河流众多, 带来大量营养物质
- A. ①②④ B. ②③⑤ C. ①④⑤ D. ①②③
11. 近年来, 南非吸引我国企业投资的最主要优势条件是 ()
- A. 市场广阔, 开放程度较低 B. 经济发达, 科技水平高
- C. 矿产资源丰富, 工业基础好 D. 政策支持, 劳动力丰富
12. 如果人们生活或者工作中遇到了问题, 知识技能类共享平台可以以付费语音的方式为其答疑解惑、出谋划策、定制服务, 公众人物的入驻更提高了人们消费的热情。这说明 ()
- ①为“知识”付费是符合市场经济的市场交易行为
- ②人们在信息化背景下才愿意为“知识”付费
- ③互联网为“知识”价值的实现提供了有利平台
- ④被公众人物吸引消费是违背价值规律的非理性行为
- A. ①② B. ②④ C. ①③ D. ③④
13. 右图反映的是由于某些因素变化引起某种商品供给与需求同时变动的情形 (P 为价格, Q 为数量, S 为供给曲线, D 为需求曲线)。以下选项所述现象与图示趋势大体一致的是 ()



- ①国家对超豪华乘用车加征 10% 的消费税, 对 1.6 升以下的小排量车按 5% 征收购置税
- ②政府深化供给侧结构性改革, 推动钢铁行业“去产能”, 全年汽车销量超过 2600 万辆
- ③某地去年苹果价格下跌, 农民因此减产, 今年多地较大幅度提高职工工资标准
- ④国家为保护环境, 关停整顿一批高污染企业后, 相关产品供不应求, 价格上涨

- A. ①② B. ①④ C. ③④ D. ②③

14. 2017年1月10日,国家统计局公布的12月份全国工业企业产品出厂价格指数(PPI)数据显示,PPI环比上涨1.6%,同比上涨5.5%。如果其他条件不变,此上涨态势可能对实体经济产生的积极传导作用是()

- ①劳动者就业增加 ②工业企业出厂产品价格企稳回升
 - ③市场需求逐渐改善 ④企业赢利增加,生产规模扩大
- A. ①→③→②→④ B. ②→④→①→③
- C. ②→①→③→④ D. ③→①→④→②

15. 2017年1月10日,阿里巴巴集团执行董事长马云与美国当选总统特朗普会面。马云强调说,“我们明确讨论到,将创造和支持100万美国中小企业,尤其在美国中西部,让他们在(阿里巴巴的)平台上,向中国和亚洲销售美国的农业产品和服务,尤其是东南亚,我们在东南亚有很大的市场份额。”通过阿里巴巴跨境电子商务平台——全球速卖通,真正实现“全国买、全球卖”、“全球买、全国卖”。跨境电子商务的发展()

- ①能进一步提高贸易全球化水平 ②标志着我国的对外开放进入一个新阶段
 - ③密切了我国与世界经济的联系 ④推动我国进出口结构的优化升级
- A. ①③ B. ①② C. ②④ D. ③④

16. 作为“作弊入刑”后的首次高考,2016年高考的考场纪律被媒体称为“史上最严”。下面是关于“作弊入刑”的议论,其中正确的是()

- ①只要加大法律制裁力度就能减少考试作弊
 - ②当前诚信缺失,要牺牲人权以维护社会公平
 - ③这是坚持依法治国,维护社会公平正义的需要
 - ④有利于为考生营造公平的竞争环境
- A. ①④ B. ①② C. ②③ D. ③④

17. 2016年11月,中共中央印发的《关于党的十九大代表选举工作的通知》要求,严把人选廉洁关,坚决防止“带病提名”,适当提高基层代表比例,女党员和少数民族党员代表应占一定比例。为此要()

- ①实行差额选举,以改变党员代表的结构 ②严肃选举纪律,突出政治标准和先进性
 - ③发扬党内民主,以保障人民的民主权利 ④加强党的组织建设,提高党的执政能力
- A. ①② B. ②③ C. ②④ D. ③④

18. 2016年11月,新西兰强震发生后,一条“满天都是中国承包的救援机,外国人看呆了”的消息在网络上流传,引发无数网友点赞。第一时间启动应急处置机制、针对中国留学生及游客及时排查、制定有效救助方案、发布安全警示……我国的一系列应急举措表明()

- ①我国尊重和保障人权
 - ②管辖权是主权国家的基本权利
 - ③和平共处五项原则是我国对外关系的基本准则
 - ④维护我国主权、安全和发展利益是我国外交政策的宗旨
- A. ①② B. ①③ C. ②④ D. ③④

19. 2016年11月30日,我国的“二十四节气”正式列入联合国教科文组织人类非物质文化遗产代表名录,世界遗产再添中国元素。随着我国城市化进程加快和现代农业技术的发展,“二十四节气”对于农事的指导功能逐渐减弱,但它仍然能够入选世界非物质文化遗产,这是因为“二十四节气”()

- ①彰显了中国人对自然的独特认识
 - ②集中展示了中华民族文化
 - ③体现了对世界文化的认同感和归属感
 - ④展现了人类文化的多样性
- A. ①③ B. ①④ C. ②③ D. ②④

20. “乐享健康生活”项目（右图）倡导谐音为“我要爱我”的“5125”理念，在紧张工作、学习的同时，关注身心健康。从哲学角度看，“5125”健康生活理念（ ）



- ①体现了矛盾分析法，兼顾人们身心健康
- ②符合客观规律，具有直接现实性
- ③对全民实现健康生活方式有积极的导向作用
- ④是对生活中人们“亚健康”状态的客观反映

A. ①② B. ①③
C. ②④ D. ③④

21. 社科院编纂的《中国语言地图》把汉语方言分为官话区、粤语区、吴语区、客语区、闽语区等 10 区，各方言区内部还可再细分。《礼记》有记载“五方之民，言语不通”，春秋战国时期的各诸侯国以“雅言”为通用语，先秦的雅言、两汉的通用语、宋明的官话、清末的国语再到如今的普通话，方言不断发展的同时，通用语言的规范也持续进行。下列说法正确的是（ ）

- ①社会生活是实践的，方言的差异与地理阻隔、人口因素等社会条件相关
- ②方言的发展与通用语言的规范分属事物发展的不同阶段，各有其特点
- ③保留方言与推广通用语之间既对立又统一，可以并行不悖
- ④个性寓于共性之中，各地方言的差异性是文化差异性的表现

A. ①③ B. ①④ C. ②③ D. ②④

22. 2016 年 11 月 16 日上午，第三届世界互联网大会在乌镇隆重开幕。阿里巴巴董事局主席马云说：“未来 30 年，是人类最关键，最需要重视，最需要把握的 30 年。不管你是什么人，不管你身处哪里，我们每个人都会是这场大变革的一部分。未来没有人会拒绝互联网，没有一个人可以离开网络而存在”。马云的话主要启示我们（ ）

- ①既要对未来充满信心，又要准备走曲折的路 ②办事情要善于抓住重点
- ③要坚持用联系的观点看问题 ④要坚持一切从实际出发的方法

A. ①② B. ①④ C. ②③ D. ③④

23. 网传，酷热天气时，打开暴晒小汽车的一侧车门，将另一侧车门开关五次，可使车内温度下降数度。王先生试用此法，发现在中午时效果并不明显，反复数十次开关车门后才有一定降温效果；傍晚温度下降时使用，效果则较为明显。这表明（ ）

- ①外部环境对事物存在和发展的状态有重要影响
- ②经过一次实践检验就能够辨别网传观点的真伪
- ③只有亲身实践得来的正确观点才具有指导意义
- ④只有在实践中才能确定真理的适用条件和范围

A. ①③ B. ②③ C. ②④ D. ①④

24. 先秦政论文《五蠹》将当时社会上儒家、纵横家、游侠、贵族门人和工商之民称之为“五蠹”。据此推理该书作者最可能是（ ）

A. 儒家 B. 墨家 C. 道家 D. 法家

25. 明人宋应星说：“（缙绅）稍有羨金，必牢藏，为终身与子孙之计。其在今日有钱闲著者，惟恐子息不生，耽耽访问故宦之家，子孙产存而金尽者，与行商坐贾有能而可信者，终朝俵放，以冀子钱”。从中可以看出（ ）


- A. 小农经济占主导地位 B. 缙绅借款无资格限制
- C. 通货膨胀使货币贬值 D. 商业资本渐趋于活跃

26. 明清时期的文化特点是“承古萌新”，下列哪项不能说是其“新”的本质（ ）

- A. 科学技术，集大成，总结性 B. 文学艺术，戏剧小说成主流，平民性
- C. 思想哲学，反封建启蒙，民主性 D. 西学东渐，西方文化传入，新颖性

27. “康有为的维新思想对公众意识的影响日益扩大，中国不但面临着行政管理崩溃的现实，而且开始了以辛亥革命为结果的政治瓦解的进程。”这说明维新思想（ ）

- A. 对封建专制思想进行了全面的否定 B. 促使国人民族意识的觉醒

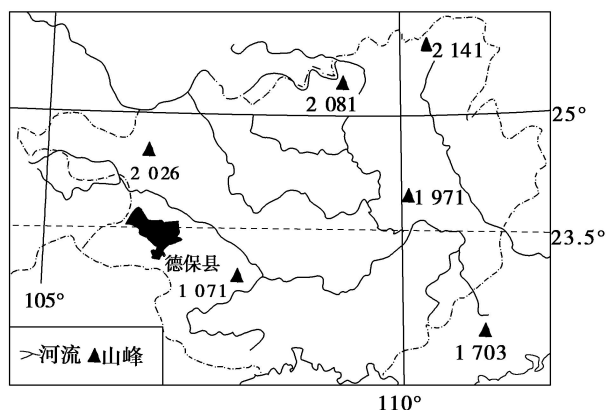
- C. 客观上有利于资产阶级革命思想传播 D. 导致清朝统治的土崩瓦解
28. 某历史学家曾说，以“民族国家”为新效忠对象而取代旧式“宗族”“种族”和“国君”的对象，反映民国以来社会历史的变化。“ ”所填的内容应该是（ ）
- A. 五四运动 B. 新文化运动 C. 辛亥革命 D. 土地革命
29. 纪录片《一寸河山一寸血》中关于某次会战的解说词：“这些人用他们的生命粉碎了日军三月亡华的狂言……用他们的鲜血改写了中国军人的形象……更重要的是他们扭转了日本由北向南进的侵华策略”。这次会战（ ）
- ①表明了南京国民政府的抗日决心 ②体现了中国军人视死如归的精神
③打乱了日本侵略者的战略部署 ④标志着抗日战争进入相持阶段
- A. ②③④ B. ①②④ C. ①②③ D. ①②③④
30. 右图是某杂志的封面。从中获取的历史信息是，当时（ ）
- A. 杂交水稻培育成功
B. 中国人造卫星发射升空
C. 浮夸现象十分盛行
D. 科教兴国战略初见成效
- 
31. 一位古罗马政治家说：“未经考验的人们，完全没有经验的人们，支持了有害的战争，让那些制造麻烦的人负责公共事务，从城邦中驱逐最能为它服务的公民。”由此可知，这位政治家（ ）
- A. 反对罗马法 B. 批评了民主制 C. 赞同君主制 D. 主张扩大公民权
32. “在重商主义时代，一个幽灵困扰着欧洲，这便是担心像西班牙一样因富于黄金，贫于生产，以及由可怕的贸易逆差而被毁灭。”这一认识客观上（ ）
- A. 刺激了新航路的开辟 B. 促进了西欧的殖民扩张
C. 催生了自由主义思潮 D. 推动了英国制造业发展
33. “对上帝的信仰是与对独裁的屈服紧密相连的，它们风雨同舟、荣辱与共；只有当最后一个国王被人用最后一个神父的肠子绞死时，人们才能获得自由。”这种诉求的历史背景是（ ）
- A. 美国南北战争 B. 法国启蒙运动 C. 欧洲宗教改革 D. 英国光荣革命
34. 自 1789 年到 2003 年，美国总统共用了 1484 次常规否决，国会推翻的否决为 106 次，大约有 7.5% 的总统否决被国会推翻。这表明（ ）
- A. 政府遵循美国宪法原则 B. 美国难以实现权力制衡
C. 美国总统权力不断扩大 D. 联邦总统维护选民利益
35. “1917 年的俄国革命最重要的教训就是：当国内有数百万人处于贫困状况时，不能无限制地寻求与资本家妥协。如果你们不进行内科治疗，那么更激进的力量就会到来，他们将会采用外科手术的方法进行治疗。”材料中的“外科手术的方法”是指（ ）
- A. 迅速发展俄国资本主义经济 B. 临时政府反击德国侵略者
C. 无产阶级推翻资产阶级政权 D. 人民起来推翻沙皇政权

第 II 卷 （非选择题 共 160 分）

本卷包括必考题和选考题两部分。第 36-41 题为必考题，每个试题考生都必须作答。第 42-48 题为选考题，考生根据要求作答。

36. 阅读图文材料，完成下列问题。（24 分）

材料一 八角(又名大料、大茴香)适宜生长在温暖、潮湿、静风、短光照的山区环境中，土壤 pH 在 4.0~5.5 为宜，根系不发达，不耐旱涝。我国广西享有“八角之乡”的美称，在政府支持下，其种植面积和产量均占全国 85% 以上，占世界 70% 以上。位于广西境内的德保县自然环境优越，适合八角生长。其特产八角茴香油出口欧美，是法国香水等产品不可缺少的原料。下图为广西示意图。



材料二 每年农历七月是广西八角收获季节，国内收购商云集于此。采摘八角主要靠人工完成，其费用占到收购价格一半以上。由于多以农户自产自销为主，八角干果质量良莠不齐，价格波动大。

材料三 下表为 2010 年我国八角产品用途及价格和出口情况。

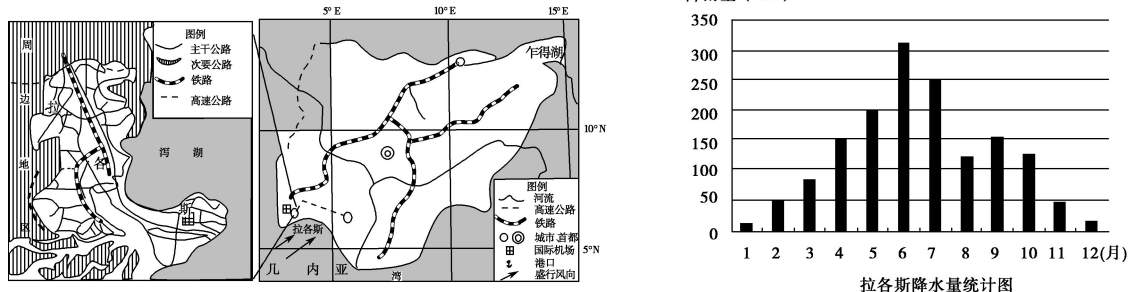
八角主要产品	八角干果	八角茴香油	茴香脑	莽草酸
主要用途	以佐料食用为主	用以生产茴香脑原料；亦以调配酒、香烟及食用香精	香料工业原料，广泛用于食品、饮料及医药	用以配制香草、奶油、巧克力等香精
价格(万元/吨)	2.8	15	11	100
国际市场供给率(%)	90	90	72	30

- (1) 简述广西德保县八角种植的优势自然条件。(8 分)
- (2) 简述广西大力发展八角产业所面临的不利条件。(8 分)
- (3) 简析广西八角产业走向国际化所面临的机遇和挑战。(8 分)

37. 阅读图文资料，回答问题。(22 分)

材料一 尼日利亚是非洲人口最多的国家，也是非洲最大的石油生产国和世界第六大石油出口国。

材料二 拉各斯由大陆部分和多个小岛组成，是尼日利亚目前最大城市，也是该国的经济、工业、金融和物流中心，许多大型榨油厂、可可加工厂、纺织、化工用品、造船、车辆修配、金属工具、造纸、锯木等企业在此集聚。下图为尼日利亚、拉各斯区域图及拉各斯降水量统计图。



- (1) 简述拉各斯降水量的季节分配特点，并分析图中盛行风对其降水的影响。(6 分)
- (2) 分析拉各斯成为该国工业中心的区位优势。(6 分)
- (3) 简述工业企业在拉各斯集聚的好处。(6 分)
- (4) 据图分析交通对拉各斯城区分布的影响。(4 分)

38. (26 分)

随着经济的发展和收入的增长，我国居民消费正在升级换代，人们对高质量消费品的渴求超过了以往任何时候。

材料一 有人发现，中国市场却成了“质量洼地”：国外买的篮球鞋穿一年还挺好，国内买的同款鞋穿两个月就坏了；在香港采购的内地生产的牛肉，口感比内地市场销售的要好很多；“中国造”的高档电饭煲，在国内市场却买不到；国外品牌的同款小汽车出现质量问题，全球召回时唯独“中国例外”……标准低或不够细致是其重要诱因，供给水平、监管方式等因素也是重要原因。

材料二 2016 年 12 月 2 日，国务院发布《消费品标准和质量提升规划（2016—2020 年）》。《规划》指出，当前我国消费品标准和质量还难以满足人民日益增长的消费需求，呈现出明显的供需错配，消费品供给结构不合理，品牌竞争力不强，消费环境有待改善，国内消费信心不足造成消费外流。要组织开展消费品质量标准与国际标准和出口标准的比对工作，积极引进国际标准和国外先进标准，推动我国消费品标准达到国际先进水平；加强消费品领域科技、专利、标准一体化研究，推动技术创新、标准研制和产业化协调发展；增加高水平、高质量、有特色产品如绿色产品、智能消费品的标准供给，倡导工匠精神，推广精益制造，推动“中国制造”迈向中高端。

(1) 运用经济生活知识并结合材料，分析说明《规划》的出台实施对企业和消费者的积极影响。(14 分)

(2) 运用“为人民服务的政府”知识并结合材料，分析国务院发布《规划》推动我国由“质量洼地”向“质量高地”转变的原因。(12 分)

39. (26 分)

材料一 2016 年 11 月 4 日，在第 21 届联合国气候变化大会上达成的《巴黎协定》正式生效。回顾《巴黎协定》的达成过程，美国、中国、法国等来自于全球 150 多个国家有着社会制度、意识形态、经济、文化发展程度等方面的不同，但参会各国能妥善处理在资金支出、技术转让、法律约束力以及透明度等领域分歧，不断扩大共识，加强合作，形成了应对全球气候变化的《巴黎协定》，此协定有利于凝聚全球力量，包容互鉴，共同发展。

材料二 2016 年 10 月 22 日是长征胜利 80 周年纪念日。人无精神则不立，国无精神则不强。唯有精神上达到一定的高度，这个民族才能在历史的洪流中屹立不倒、奋勇向前。二万五千里长征是中华民族发展史上不能忘却、不容否定的壮丽篇章，也是中国人民和中华民族继往开来、奋勇前进的现实基础。明镜照形，古事知今。回顾长征历史，不是为回避今天面临的困难和问题寻找借口，而是为了不忘初心，弘扬长征精神，增强开拓前进的勇气和力量。

(1) 结合材料一，运用对立统一的观点，说明各参会国为什么能够妥善处理分歧，形成共识。(12 分)

(2) 结合材料二，从文化生活的角度，阐释弘扬长征精神的现实意义。(10 分)

(3) 某中学准备在全校开展弘扬长征精神的系列活动，请你就弘扬长征精神的意义拟两条宣传标语。(4 分)

40. 阅读材料，完成下列要求。(25 分)

材料一

1900 年，一些有识之士看到洋人在华经商已达到“肆无忌惮”的地步，公开大声疾呼“中国商业之不振，大率由于商学不讲，商律不谙，商会不单”，强烈呼吁“广商学以植其材，联商会以通其气，定专律以维商事，兴农工以浚商源，效法西欧，振起商战”，其中“尤以创设商会为入手要端”。1901 年，中国先后成立了上海商业会议公所、天津商务公所、杭州商会。1903 年，清政府成立了商部，为振兴商务上书朝廷“劝办商会”，并制定和发布了《商会简明章程》，其中规定各地商业公所及商务公会一律统称商会。商部倡导推行商会的目的之一就是

为了使“振兴工商”的规划有一个强有力的支持者和执行者。很快，上海商业会议公所改名为上海商务总会。1904 年，天津商务总会成立。从 1903 年到 1906 年间，全国范围内共成立商务总会 30 处，商务分会 147 处。1905 年的抵制美货运动，是由上海商会发起的，并通电 21 处商会开展抵制美货运动。1914 年，上海成立了中国历史上第一个全国性的商会机构——中华全国商业联合会。

材料二

近代英美等国家将商会定性为民间的社团组织。其产生、发展是一个源远流长的历史过程，是伴随着欧美资本主义经济的发展而逐步成长起来的。商会是由企业以及参与工商业和服务业的人士等资源组成的组织。被近代英美国家视为市场的润滑剂、协调器和保险阀。它起着维持公平竞争的市场秩序，降低经营者之间的交易费用，保护市场主体的合法权益，改进对市场的决策和管理，制定行业规范的作用。——摘编自朱英《商会与近代中国》等

- (1) 根据材料一并结合所学知识，概括近代中国商会形成的原因及其发展趋势。（12 分）
- (2) 根据材料二并结合所学知识，比较近代中国商会与近代英美商会的主要区别，并谈谈你从中得到的启示。（13 分）

41. 阅读材料，完成下列要求。（12 分）

体育是一种有目的、有意识、有组织的社会活动，伴随人类社会的演进而逐步发展。

材料：足球运动发展历程

19 世纪初	足球在英国贵族私立学校兴起
19 世纪 40 年代	足球由贵族私立学校的游戏，变成劳工阶层的闲暇娱乐，在曼彻斯特等工业城市开始流行
1863 年	英国足协正式成立，制定统一的竞赛规则，标志着现代足球运动的诞生
1876 年	英国谢菲尔德俱乐部开始招募职业运动员，世界上第一个职业足球俱乐部诞生
1888 年	英格兰足球联赛开始，12 支职业足球队往来于各城市，进行循环赛
19 世纪 90 年代	受英国移民、水手的影响，足球运动在欧洲大陆和南美开始流行
1904 年	国际足球联合会创建
1954 年	瑞士世界杯期间，比赛首次运用电视转播
2010 年	南非世界杯期间，通过电视和网络观看者已达到数百亿人次，成为收视率最高的一次体育盛会

阅读上表，对足球运动的发展历程划分阶段并说明理由。分析足球运动不断发展的历史条件。（12 分）

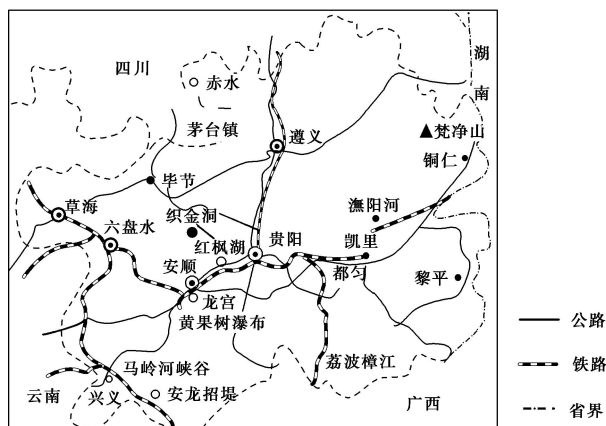
请考生从 2 道地理选考题、4 道历史选考题中每科任选一题作答。如果多做，则每科按所做的第一题计分。

42. 【地理——选修 3：旅游地理】（10 分）

阅读材料，结合所学知识，完成下列问题。

材料一 穷游是近年来新出现的一种性价比较高的旅游方式，指的是花最少的钱，享受到最大价值的旅游。家住昆明的某高三学生，计划今年高考结束后和好友以穷游的形式到外地游玩半月。经过反复论证，最后选择去贵州旅游。

材料二 贵州主要旅游景点分布图（下图）。



请你对“选择贵州作为穷游目的地”做可行性评价，并分析贵州可打造的旅游品牌。

43. 【地理——选修 5：环境保护】(10 分)

阅读材料，回答问题。

河道渠化是指将城市内的河道取直，硬化河堤、河底，改造岸坡为直立砌墙或混凝土墙，把天然河道变成人工明渠的过程(如下图)。随着城市化进程的加快，我国许多城市在建设过程中都对城市河道进行了渠化改造。



分析河道渠化带来的不利影响。

44. 【历史——选修 1：历史上重大改革回眸】(15 分)

材料

漕运萌芽于秦汉，兴盛于唐宋，而明代则是漕运管理制度变革频繁的时代。明初，漕运方式是水陆兼挽，参以海运。……永乐十三年，运河全线畅通，明王朝行“支运”之法，以运河漕运取代“海（河）陆”兼运。具体为：各地漕粮先由当地民户运至指定的粮仓，再由各地卫所军官分段递运至京。此法每年四次，运粮达三百余万石。宣德六年，明廷……始行“兑运”，实行军民联运。先由农户运粮至粮仓附近各府州县水次（码头），交兑给官军领运，再由官军全力负责运往京师，粮户只需按道里远近，给官军以一定数量的耗米和轻资银作为酬劳。至成化七年才被“长运法”取代。……“长运”又名“改兑”，是直达法。它是让运军直接赴江南各州县水次交兑，然后径直运往京师，免除农民长途运粮，只是在原有的加耗米之外，每石加米一斗，充作渡江费。长运法是明代漕运方式不断变革的产物，在当时的历史条件下，可谓比较完善的一种漕运方式。

——一整编自吴琦《中国历代漕运改革述论》

- (1) 根据材料，概括指出明代漕运改革的特点。(6 分)
- (2) 根据材料并结合所学知识，说明明代漕运改革的历史作用。(9 分)

45. 【历史——选修 2：近代社会的民主思想与实践】(15 分)

材料

民主体制和随之而来的自由，随着社会的变化而演变。根据近代早期的英国法律，表达对政府的批评言论，无论局面还是口头，都会受到惩罚。英国殖民者将上述法律带到了大西洋彼

岸，1735年，纽约报纸发行人彼得·曾格，因发表批评纽约总督威廉·科斯基的言论，而受到指控，罪名是煽动诽谤。但是，曾格的律师成功地说服法院判曾格无罪，理由是曾格所发表的情况属实。科斯基诉曾格案成为一个具有重要政治意义的案例。

1791年，美国宪法《第一条修正案》规定，国会不得制定限制“言论自由或出版自由”的法律。“言论和出版自由”是人民的一项基本权利，也是民主社会的基石之一。由言论和出版自由的权利引申出一个新的权利诉求：“人民知情的权利”，即禁止政府对公众获取信息的来源加以限制。人民知情的权利与新闻自由密切相关。“如果把主体理解为亚伯拉罕·林肯所说的民有、民治、民享的政府，那么，政府的事务实际就是人民的事务，而这也是自由的新闻机构的角色与公民的民主关注的汇合点”。

——摘编自梅尔文·乌罗夫斯基《人民的权利——个人自由与权利法案》

(1) 根据材料并结合所学知识，概括美国新闻出版自由权利得以确立的历史条件。(9分)

(2) 根据材料并结合所学知识，概括“言论和出版自由”是美国民主社会的一个基石的原因。(6分)

46.【历史——选修3：20世纪的战争与和平】(15分)

材料

19世纪中叶，日本被纳入近代国际条约体系和国际关系之后，采取“失于俄美者，取偿于鲜(朝鲜)满(中国东北)之地”的“补偿”方针，将侵略亚洲邻国作为其弥补从西方列强那里失去利益的手段。……1914年第一次世界大战爆发，欧洲主要国家因战争无暇东顾，这给日本带来了扩张利益的机会。8月4日，英国通过驻日大使提出：如果战争波及远东，香港及威海卫受到袭击时，希望日本给予援助。8月7日，英国正式向日本提出了援助要求。日本政府立即召开会议，外相加藤高明认为，日本“可以应英国的要求，出于同盟友谊参战；帝国可以利用此机会扫除德国在东亚的根据地，提高日本国际地位。从以上两点看，正是参战的好机会”。日本政府、元老、军部无不认为第一次世界大战对日本来说是“千载一遇”机会。8月23日，日本对德宣战。

——史桂芳《第一次世界大战前后日本对外扩张与东亚格局之变动》

(1) 据材料并结合所学知识，日本是怎样“被纳入近代国际条约体系”的。(6分)

(2) 据材料并结合所学知识，分析日本参战的原因。(9分)

47.【历史——选修4：中外历史人物评说】(15分)

材料

戚继光(1528-1588)，明代著名抗倭将领。山东登州(今山东蓬莱)人。父死，袭官登州卫指挥僉事，升任都指挥僉事，负责山东御倭兵事。嘉靖三十四年(1555)调浙江，任参将，积极抗御倭寇(注：14世纪初，日本诸侯割据，互相攻战。在战争中失败了的一些南朝封建主，组织武士、商人和浪人到中国沿海从事武装走私和抢劫烧杀的海盗活动，史称倭寇)。他鉴于卫所军有不习战阵的弱点，招募义乌农民和矿工，训练新军。他治军有方，训练严格。由于新军将士英勇善战，屡立战功，被誉为戚家军。嘉靖四十年，倭寇焚掠浙东，他率军在龙山大败倭寇。继之在台州地，扫平浙东。次年率6000精兵援闽，捣破倭寇在横屿(今宁德)的老巢。嘉靖四十二年再援福建，升总兵官，与刘显、俞大猷分三路进攻平海卫(今兴化)，斩级二千二百。次年春，相继败倭于仙游城下，福建倭患遂平。嘉靖四十四年又与俞大猷会师，歼灭广东的倭寇。东南沿海倭患完全解除。(摘编自《明史》)

(1) 据材料并结合所学知识，说明倭寇猖獗的背景。(6分)

(2) 据材料并结合所学知识，分析戚继光成功抗倭的原因。(9分)