

2011—2015 年全国卷试题汇编 按照题号顺序

第 24 题

24. (2015 年 I 卷)《吕氏春秋·上农》在描述农耕之利时不无夸张地说:一个农夫耕种肥沃的土地可以养活九口人,耕种一般的土地也能养活五口人。战国时期农业收益的增加
- A. 促进了个体小农经济的形成      B. 抑制了手工业和商业的发展  
C. 导致畜力与铁制农具的使用      D. 阻碍了大土地所有制的成长
24. (2015 年 II 卷)古代儒家学者批评现实政治,往往称颂夏商周“三代”之美,甚至希望君主像尧、舜一样圣明。这表明了儒者
- A. 不能适应现实政治      B. 反对进行社会变革  
C. 理想化的政治诉求      D. 以复古为政治目标
24. (2014 年 II 卷)周代分封制下,各封国贵族按“周礼”行事,学说统一的“雅言”,促进了各地文化的整合。周代的“雅言”最早应起源于现在的
- A. 河南      B. 河北      C. 陕西      D. 山东
24. (2014 年 I 卷)中国古代,“天”被尊为最高神。秦汉以后,以“天子”自居的皇帝举行祭天大典,表明自己“承天”而“子民”,官员、百姓则祭拜自己的祖先。这反映了秦汉以后
- A. 君主专制缘于宗教权威      B. 政治统治借助于人伦秩序  
C. 皇权至上促成祖先崇拜      D. 祭天活动强化了宗法制度
24. (2013 年 II 卷)司马迁著《史记》时,文献关于黄帝的记述内容不一甚至荒诞,有人据以否定黄帝的真实性。司马迁游历各地,常常遇到人们传颂黄帝的事迹。有鉴于此,他从文献中“择其言尤雅者”,编成黄帝的事迹列于本纪之首。这一撰述过程表明
- A. 《史记》关于黄帝的记录准确可信      B. 传说一定程度上可以反映历史真实  
C. 历史文献记录应当与口头传说相印证      D. 最完整的历史文本记录的历史最真实
24. (2013 年 I 卷)在周代分封制下,墓葬有严格的等级规定。考古显示,战国时期,秦国地区君王墓葬规模宏大,其余墓葬无明显等级差别;在经济发达的东方六国地区,君王、卿大夫、士的墓葬等级差别明显。这表明
- A. 经济发展是分封制度得以维系的关键      B. 分封制中的等级规定凸显了君主集权  
C. 秦国率先消除分封体制走向集权统治      D. 东方六国仍严格遵行西周的分封制度
24. (2012 年新课标卷)汉武帝设置十三州刺史以监察地方,并将豪强大族“田宅逾制”作为重要的监察内容,各地财产达 300 万钱的豪族被迁到长安附近集中居住,这表明当时
- A. 政权的政治与经济支柱是豪强大族      B. 政治权力与经济势力出现严重分离  
C. 抑制豪强是缓解土地兼并的重要措施      D. 经济手段是巩固专制集权的主要方式
24. (2011 年新课标卷)董仲舒认为孔子撰《春秋》的目的是尊天子、抑诸侯、崇周制而“大一统”,以此为汉武帝加强中央集权服务,从而将周代历史与汉代政治联系起来。西周时代对于秦汉统一的重要

历史影响在于

- A. 构建了中央有效控制地方的制度
- B. 确立了君主大权独揽的集权意识
- C. 形成了天下一家的文化心理认同
- D. 实现了国家对土地与人口的控制

## 第 25 题

- 25、（2015 年 I 卷）《两汉时期，皇帝的舅舅、外祖父按例封侯；若皇帝幼小，执政大臣也主要从他们之中选择。这被当时人视为“安宗庙，重社稷”的“汉家之制”。汉代出现外戚干政的背景是
- A. 皇帝依靠外戚抑制相权
  - B. “家天下”观念根深蒂固
  - C. 母族亲属关系受到重视
  - D. 刘氏同姓诸侯王势力强大
- 25、（2015 年 II 卷）汉宣帝曾称：“与朕共治天下者，其唯良二千石郡太守乎！”后来的帝王反复重申上述观念。这主要体现了
- A. 地方吏治是国家安定的重要因素
  - B. 中央集权与地方分权之间的矛盾
  - C. 汉代地方行政制度为后代所沿用
  - D. 历代帝王将汉宣帝作为治国榜样
- 25、（2014 年 II 卷）秦朝法律规定，私拿养子财物以偷盗罪论处，私拿亲子财物无罪；西晋时规定，私拿养子财物同样无罪。这一变化表明，西晋时
- A. 养子亲子权利相同
  - B. 血缘亲情逐渐淡化
  - C. 宗族利益受到保护
  - D. 儒家伦理得到强化
- 25、（2014 年 I 卷）唐高祖李渊自认为是老子后裔，规定老子地位在孔子之上，佛教位居第三，武则天时明令佛教位在道教之上，后来唐武帝“灭佛”。这反映出唐代
- A. 皇帝的好恶决定宗教兴亡
  - B. 道教的社会影响最大
  - C. 儒学的政治地位最为稳固
  - D. 佛教的社会基础薄弱
- 25、（2013 年 II 卷）25. 汉唐制定土地法规，限制私有大土地的发展，宋代一改此法，“不抑兼并”。据此可知宋代
- A. 中央集权弱化
  - B. 流民问题严重
  - C. 土地兼并缓和
  - D. 自耕小农衰退
- 25、（2013 年 I 卷）自汉至唐，儒学被奉为“周（公）孔之道”，宋代以后儒学多被称作“孔孟之道”，促成这一变化的是
- A. 宗法血缘制度逐渐瓦解
  - B. 仁政理念深入人心
  - C. 程朱理学成为统治思想
  - D. 陆王心学日益兴起
- 25、（2012 年新课标卷）许仙与白娘子自由恋爱因法海和尚作梗终酿悲剧，菩萨化身的济公游戏人间维持正义。这些在宋代杭州流行的故事，反映出当时
- A 对僧人爱恨交加的社会心态
  - B 民间思想借助戏剧广泛传播
  - C 中国文化的地域性特色浓厚
  - D 市民阶层的价值取向

25、（2011 年新课标卷）图 4 是依据《隋书·食货志》等制作的南北朝时期各地区货币使用情况示意图。该图反映出

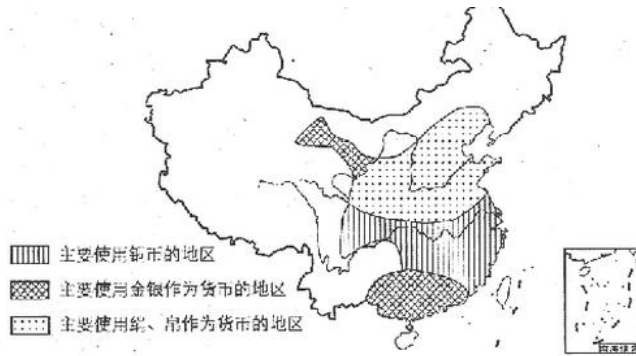


图 4

- A. 长江流域经济水平总体上高于黄河流域
- B. 河西走廊与岭南地区经济发展速度最快
- C. 黄河流域的丝织业迅速发展
- D. 长江流域经济发展相对稳定

## 第 26 题

26、（2015 年 I 卷）宋代东南沿海地区出现了一些民间崇拜，如后来被视为海上保护神的妈祖、被视为妇幼保护神的临水夫人等，这些崇拜得到朝廷认可，后世影响不断扩大。这反映出

- A. 朝廷不断鼓励海洋开发
- B. 女性地位逐渐得到提高
- C. 东南沿海经济社会影响力上升
- D. 统治思想与民众观念趋向一致

26、（2015 年 II 卷）唐宋时期，江南经济迅猛发展，南宋时全国经济重心已移至江南。促成这一转变主要动力之一是

- A. 坊市制度瓦解
- B. 土地集中加剧
- C. 农业技术进步
- D. 海外贸易拓展

26、（2014 年 II 卷）北宋中期，“蜀民以铁钱重，私为券，谓之交子，以便贸易，富民十六户主之。其后，富者资稍衰，不能偿所负，争讼数起”。这表明交子

- A. 具有民间交易凭证功能
- B. 产生于民间的商业纠纷
- C. 提高了富商的社会地位
- D. 促进了经济重心的南移

26、（2014 年 I 卷）人性是先秦以来一直讨论的问题。基于对人性的新认识，宋明理学家主张“存天理，灭人欲”，他们认为人性

- A. 本质是善
- B. 本质为恶
- C. 非善非恶
- D. 本善习远

26、（2013 年 II 卷）明朝有人描述在广东大庾岭所见：“盖北货过南者，悉皆金帛轻细之物；南货过北者，悉皆盐铁粗重之类。过南者月无百驮，过北者日有数千。”这表明当时

- A. 岭南经济发展程度高于北方
- B. 岭南是商人活动的主要地区
- C. 以物易物是商贸的主要方式
- D. 区域差异造成长途贸易兴盛



- 27、（2013年II卷）清代有学者说：“古有儒、释、道三教，自明以来，又多一教，曰小说……士大夫、农、工、商贾，无不习闻之，以至儿童、妇女不识字者，亦皆闻而如见之，是其教较之儒、释、道而更广也。”这表明
- A、小说成为一种新的宗教传播载体      B. 小说的兴起冲击了封建等级观念  
C. 市民阶层扩大推动世俗文化发展      D. 世俗文化整合了社会的价值观念
- 27、（2013年I卷）1688年，英国议会迎立荷兰执政威廉为国王，并拥立他的妻子玛丽（詹姆士二世的女儿）为女王，目的是
- A. 加强英国与荷兰的友好关系      B. 否定王位世袭男性优先原则  
C. 通过双王相互牵制防止独裁      D. 为光荣革命披上合法的外衣
- 27、（2012年新课标卷）理学家王阳明说：“士以修治，农以具养，工以利器，商以通货，各就其资之所近，力之所及者而业焉，以求尽其心，其归要在于有益生人（民）之道，则一而已……四民异业而同道。”在此，王阳明
- A 重申传统的“四民”秩序      B 主张重新整合市民阶层  
C 关注的核心问题是百姓生计      D 阐发的根本问题是正心诚意
- 27、（2011年新课标卷）苏格拉底在受审时申辩说：“打一个可笑的比喻，我就像一只牛虻，整天到处叮住你们不放，唤醒你们、说明你们、指责你们……我要让你们知道，要是杀死像我这样的人，那么对你们自己造成的损害将会超过对我的残害。”这段话表明苏格拉底
- A、维护公民生存权利      B. 捍卫思想自由原则  
C、抗议雅典司法不公      D. 反对贵族专权暴政

## 第28题

- 28、（2015年I卷）1852年，一位在华英国人在报告中称，英国商人运往伦敦的中国生丝是以“无用的”曼彻斯特上等棉布包装的。而在此之前，用于包装的主要是中国产的土布。包装布的这种变化反映了当时
- A. 中国的土布质量粗糙      B. 英国棉布价格更具优势  
C. 中国生丝在英国畅销      D. 英国棉布在中国滞销
- 28、（2015年II卷）奕訢力倡洋务，又因在兄弟中排行第六，被称为“鬼子六”；洋务派官员丁日昌被称为“丁鬼奴”；郭嵩焘在一片冷嘲热讽中出任第一任驻英公使。这反映了
- A. 洋务运动与传统的观念发生冲突      B. 崇洋媚外行为遭到社会鄙视  
C. 洋务派改器物不改制度受到批判      D. 西方列强侵略激起国人抵制
- 28、（2014年II卷）1892年，维新思想家宋恕提出“欲更官制、设议院、改试令，必自易西服始”。康有为在奏议中也不止一次提及“易服”。维新派如此重视易服的主要原因是
- A. 改制中易服更易推行      B. 意在营造改制的社会氛围  
C. 中国需改变对外形象      D. 长袍马褂代表了守旧势力

- 28、（2014年I卷）据研究，1853年，印度人均消费英国棉纱、棉布9.09便士，而中国是0.94便士。这反映出当时中国
- A. 经济受到鸦片战争的破坏      B. 实行保护本国经济的政策  
C. 经济的发展水平低于印度      D. 传统的小农经济根深蒂固
- 28、（2013年II卷）“蓝脸的窦尔敦盗御马，红脸的关公战长沙，黄脸的典韦白脸的曹操，黑脸的张飞叫喳喳。”京剧艺术中人物的脸谱
- A. 真实再现了客观历史      B. 固化了大众的历史认知  
C. 正确评断了历史人物      D. 提升了历史人物的价值
- 28、（2013年I卷）恩格斯称赞一位近代科学家的研究成就是“自然科学的独立宣言”，他指的应是
- A. 哥白尼的“日心说”否定了宗教神学崇信的“地心说”  
B. 伽利略创立的实验科学推动了近代科学的发展  
C. 牛顿创立经典力学完成了科学史上的划时代飞跃  
D. 达尔文的生物进化论颠覆了关于人类起源的传统观念
- 28、（2012年新课标卷）清代内阁处理公务的案例“积成样本四巨册”，官员“怀揣摹此样本为急”，时人称之为：“依样葫芦画不难，葫芦变化有千端。画成依旧葫芦样，要把葫芦仔细看。”这反应出当时
- A. 内阁职权下降导致官员无所事事      B. 政治体制僵化官员拘泥规则  
C. 内阁机要事务繁忙官员穷于应付      D. 皇帝个人独裁官员惟命是从
- 28、（2011年新课标卷）1871年4月，巴黎公社发布文告称：“你是高利贷者、承租户、庄园主和农场主折磨的一个乡下劳动者，贫穷的短工和小所有者，你们的劳动最好的一部分产品要给什么都不干的人，巴黎愿意把土地给农民，把劳动工具给工人”。发布该文告的主要意图是
- A. 号召工农群众迅速起义      B. 进一步巩固工农革命联盟  
C. 宣布彻底废除财产私有      D. 希望得到农村群众的支持

## 第29题

- 29、（2015年I卷）《申报》“时评”栏目曾评述说：“今之时局，略似春秋战国时期之分裂。中央政府之对于各省，犹东周之对于诸侯也。南北相攻，皖直交斗，滇蜀不靖，犹诸侯相侵伐也。”这一时局出现在
- A. 太平天国运动时期      B. 义和团运动时期  
C. 辛亥革命时期      D. 北洋军阀统治时期
- 29、（2015年II卷）康有为在《新学伪经考》中认为，被奉为儒家经典的古文经实系伪造。1891年该书刊印后风行国内，但很快遭到清政府禁毁。这主要是因为该书旨在
- A. 揭露历史真相      B. 引介西方理论      C. 倡导变法维新      D. 颠覆孔孟学说
- 29、（2014年II卷）1926年，有报纸评论说：“自从蒋介石抬出三民主义，大出风头以后，许多人都觉得

主义是值钱的，于是乎孙传芳标榜三爱（爱国、爱民、爱敌），东三省有人主张三权（民权、国权、人权）。听说四川有些军人到处请教人替他们想个主义玩玩。”这种现象反映了当时

- A. 政治宣传促使各界思想趋同
- B. 标榜主义成为军阀自保的主要手段
- C. 民主思想已经成为社会潮流
- D. 各地军阀对三民主义理解存在差异

29、（2014年I卷）1898年，梁启超等联合百余举人上书，请废八股取士之制。参加会试的近万名举人，“闻启超等此举，嫉之如不共戴天之仇，遍播谣言，几被殴击”。这一事件的发生表明

- A. 废八股断送读书人政治前途
- B. 改制缺乏广泛的社会基础
- C. 知识分子在政治上极为保守
- D. 新旧学之间矛盾不可调和

29、（2013年II卷）1877年，清政府采纳驻英公使郭嵩焘的建议，在新加坡设立领事馆。此后，又在美国旧金山，日本横滨、神户、大阪及南洋华侨聚居的商埠设立了领事馆。这反映了清政府

- A. 力图摆脱不平等条约的约束
- B. 外交上开始出现制度性变化
- C. 逐步向近代外交转变
- D. 国际地位得到提高

29、（2013年I卷）现代化是晚清历史发展的一个趋向，最能体现这一趋向的是

- A. 洋务运动—戊戌政变—清末新政
- B. 洋务运动—戊戌变法—辛亥革命
- C. 鸦片战争—中法战争—甲午战争
- D. 太平天国运动—义和团运动—辛亥革命

29、（2012年新课标卷）梁启超在论述中国古代专制政治发展时说：“专制权稍薄弱，则有分裂，有分裂则有立征，有力征则有兼并，兼并多一次，则专制权高一度，愈积愈进”从中国古代历史整体来看，这一论述中可以确认的是

- A. 君主专制是维系统一的主要条件
- B. 分裂动荡是专制权力产生的前提
- C. 专制程度随历史进程而不断加强
- D. 武力夺取政权是专制制度的基础

29、（2011年新课标卷）洪秀全尊奉“皇上帝”，自命为上帝之子下凡救世，认为其他一切偶像皆为妖魔。太平天国运动初期，太平军所到之处毁学宫、拆孔庙、查禁孔孟“妖书”；而在后期洪秀全则要求“学尧舜之孝弟忠信，遵孔孟之仁义道德”。太平天国运动由反孔到尊孔主要是因为

- A. 拜上帝教不足以支撑其政权
- B. 太平天国定都天京后战局出现逆转
- C. 反孔受到传统士绅的抵制
- D. 太平天国未能得到西方势力的支持

## 第30题

30、（2015年I卷）1933年到1937年上半年，国民政府军事委员会先后统筹完成了江宁、镇江、虎门、马尾、连云港等要塞区的建设，又大规模构筑了京沪、沪杭、豫北、晋北、绥东等侧重于城市和交通线防御的工事。它反映了国民政府

- A. 力图防范各地兴起的反蒋运动
- B. 对日持久防御作战的战略意图
- C. 全力“围剿”红军的企图
- D. 试图削弱各地军阀的实力

30、（2015年II卷）1938年，日本侵略者在北平设立“中国联合准备银行”，发行“联银券”，流通于平、津、鲁、豫等地；同时还发行了大量不具备货币性质的“军用票”，流通于市场。日本侵略者上述行

径的目的是

- A. 扰乱国统区金融秩序    B. 转嫁战争负担    C. 封锁抗日根据地经济    D. 强化物资管制

30、（2014年II卷）1937年11月，中国代表顾维钧在一次国际会议上说：“目前远东和平的恢复与维护，要求其他与会各国采取道义上的、物资上的、财政和经济上的具体行动。”否则，远东的暴力和动乱“就会达到不经受另一次世界大战的考验和磨难，就不可能制止和控制的程度”。他的主要目的在于

- A. 争取各国对华同情和帮助    B. 警示世界大战爆发的可能性  
C. 批评列强对日的绥靖政策    D. 敦促列强维护原有世界格局

30、（2014年I卷）20世纪20年代，上海成为中国电影的制作中心，当时在上海放映的各种影片中，外国片与国产片比例约为2:1；而在北京和天津，这一比例高达5:1甚至6:1。上海与京津放映中外电影比例不同，能够说明这一现象的应是

- A. 外国电影的制作水平较高    B. 京津民众对外来事物更具热情  
C. 中国电影拷贝流通税费重    D. 上海民众的社会心态更为开放

30、（2013年II卷）抗日战争期间，湖北省政府曾发布《湖北省减租实施办法》，在农村推行以“减租”为内容的土地改革并取得一定成效，但未得到国民党中央的肯定。这表明当时国民党中央

- A. 放弃了对农村原有土地制度的保护    B. 阻止地方政府进行土地政策的调整  
C. 无力控制地方政府的行为    D. 无意改变农村的生产关系

30、（2013年I卷）1928年中共六大通过的《政治议决案》指出：各省自发的农民游击战争，只有和“无产阶级的城市的新的革命高潮相联结起来”，才可能变成“全国胜利的民众暴动的出发点”。这反映了当时中共中央

- A. 主张走农村包围城市的革命道路    B. 坚持以城市为中心的革命模式  
C. 重视农民战争与城市暴动的结合    D. 认为农民阶级是取得革命胜利的主导

30、（2012年新课标卷）1895年，身为状元的张謇开始筹办纱厂，他称自己投身实业是“捐弃所持，舍身喂虎”。这反映出张謇

- A. 毅然冲破视商为末业的传统观念    B. 决心投入激烈的民族工商业竞争  
C. 预见国内工商业发展前景暗淡    D. 具有以追求利润为目的的冒险精神

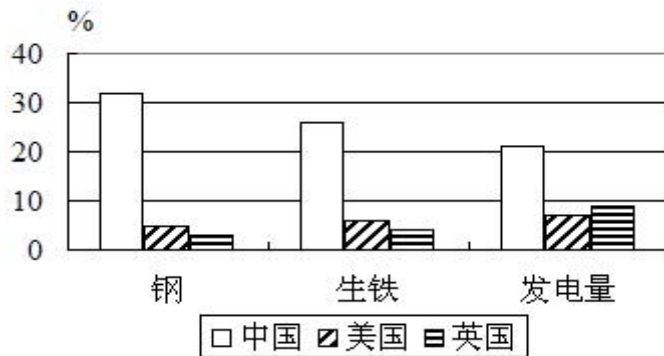
30、（2011年新课标卷）甲午战争后的“公车上书”与巴黎和会时的五四运动都是爱国救亡运动，但两者的规模与影响差别甚大，其主要原因在于

- A. 民族觉醒程序与群众基础不同    B. 外交失利导致的损害程序不同  
C. 大众传媒发展水平与方式不同    D. 列强攫取中国利权的手段不同

## 第 3 1 题



31、（2015年I卷）图5为新中国第一个五年计划期间中国、美国、英国主要工业指标年均增长速度的比较。据此可以推知



- A. 中国原有工业基础很薄弱                      B. 冷战制约美英工业发展  
C. 中国重工业发展急躁冒进                      D. 美英传统工业产业衰落

31、（2015年II卷）到1952年底，新中国已建立多所俄文专科学校，北京大学、清华大学等多所高校和一批中学开设了俄文课程，许多中小城镇也掀起了学习俄语的热潮。这是我国当时

- A. 外交政策转变的需要                      B. 计划经济体制的需要  
C. 文化教育改革的需要                      D. 国家发展战略的需要

31、（2014年II卷）1953年10月，中共中央决定在全国范围内实行粮食的统购统销，在农村向全部农户实行粮食计划收购的政策，由国家严格控制粮食市场。粮食的统购统销

- A. 加快了我国农村经济的恢复和发展                      B. 有力地促进了各地农村的政权建设  
C. 将农民经济生活纳入国家计划体制                      D. 为国家工业化建设提供劳动力资源

31、（2014年I卷）“一五”计划期间，我国实行粮食计划供应制度，各地根据国家粮食计划供应的相关规定，以户籍为依据确定粮食供应的对象与数量。这一制度的实行

- A. 有利于资本主义工商业改造                      B. 保障了工业化战略实施  
C. 缓解了灾害造成的粮食短缺                      D. 加速了国民经济的恢复

31、（2013年II卷）新中国成立之初，全国各高校遵照中央政府要求开设公共必修课，恩格斯所著《劳动在从猿到人转变过程中的作用》成为指定教科书，文化部还举办了以“从猿到人”等为宣传主题的大型科学知识展览会。其主要目的是

- A. 构建与国家政权相适应的意识形态                      B. 确立马克思主义在全党的指导地位  
C. 用科学文化知识破除封建迷信思想                      D. 探索引导宣传舆论工作的全新形式

31、（2013年I卷）有些学者认为，美国总统胡佛并不是自由放任政策的典型代表，他也对经济进行了有限的干预，且为后来的罗斯福新政提供了借鉴。胡佛采取的干预措施是

- A. 斡旋劳资双方达成保持工资水平和不罢工的协议  
B. 通过霍利—斯穆特法以提高关税和保护国内市场  
C. 发起自愿减少耕地运动以维持农产品价格  
D. 成立复兴金融公司向一些银行和公共工程贷款

31、（2012年新课标卷）1920年12月，毛泽东在致朋友的信中说：“我看俄国式的革命，是无可如何的山穷水尽你诸路皆走不通了的一个变计，并不是有更好的方法弃而不采，单要采这个恐怖的方法。”这表明在当时中国共产党早期组织成员看来

- A. 俄国革命道路必须与中国实际相结合
- B. 在中心城市举行武装暴动是当务之急
- C. 暴力革命是进行社会改造的必然选择
- D. 改良仍旧是改造社会行之有效的方法

31、（2011年新课标卷）1900年6月21日，清政府颁布“向各国宣战懿旨”。6月26日，两江总督刘坤一、湖广总督张之洞等与列强驻上海领事商定《东南保护约款》，规定“上海租界归各国共同保护，长江及苏、杭内地均归各督抚保护，两不相扰，以保中外商民人民产业为主”。这表明

- A. 列强在华势力得到有效遏制
- B. 清政府中央集权面临危机
- C. 地方实力派成为列强代理人
- D. 地方势力与朝廷分庭抗礼

### 第 3 2 题

32、（2015年I卷）图6为古罗马正义女神象。它体现了罗马法的诸多原则，如高擎的秤体现的是裁量公平，手握利剑体现的是法律的强制力。据此，双眼蒙布所体现的原则是，法官审案应



图 6

- A. 主要依据道德良知
- B. 侧重听取证人证言
- C. 不受表象迷惑洞察事实真相
- D. 排除一切干扰遵从民众意愿

32、（2015年II卷）17世纪60年代，茶叶在英国只是上流社会的消费品；到18世纪末，茶叶已成为普通民众的日常消费品。这反映了当时的英国

- A. 等级观念明显淡化
- B. 崇尚东方的生活方式
- C. 贫富差距日益缩小
- D. 扩大了与东方的贸易

32、（2014年II卷）罗马共和国早期，当罗马遭受外族进攻时，平民曾多次将自己组织的队伍撤离罗马，拒绝作战。迫使贵族在政治上做出让步，《十二铜表法》的制定就是这种斗争的成果之一。可见当时

- A. 贵族逐步丧失制定法律的主导地位
- B. 平民采取有效方式争取自身权益
- C. 贵族让步在法制发展中起决定作用
- D. 平民与贵族的政治诉求日趋一致

32、（2014年I卷）古代雅典法律规定：如果公民试图自杀，必须事先提出申请，以获得批准未经允许的自杀被视为犯罪行为。这反映出在古代雅典

- A. 法律体系已达到完备的程度
- B. 法律具有尊重生命价值的人文精神
- C. 公民个人自由受到严格限制
- D. 自杀有违崇尚自然法则的理性精神

32、（2013年II卷）公元前340年，雅典一下层女子因亵渎神灵被控犯罪，按法律当处死。辩护人用动情的言辞质问：“难道你们忍心让这位阿芙罗狄特（古希腊美丽女神）的弟子香消玉殒吗？”这打动了陪审团。经投票，陪审法庭判其无罪。这反映出在古代雅典

- A. 民主原则贯穿司法过程
- B. 妇女享有广泛政治权利

C. 法律注重保护平民权益      D. 司法审判缺乏严格程序

32、（2013年I卷）1950年，法国提出欧洲应该超越国家的藩篱联合起来。这一建议得到联邦德国等国家的支持，但英国等一些国家反对成立超国家的机构，只有法、德、意等六国实现了联合。六国率先实现联合的直接原因是这些国家

A. 屡遭战争重创      B. 社会制度相同  
C. 发展水平相近      D. 历史上关系紧密

32、（2012年新课标卷）1958年，美国一份评估中国“二五”计划的文件认为，中国虽然面临着农业生产投入不足与人口快速增长的压力，但由于中苏关系良好而获得苏联援助，同时减少粮食出口，中国可以解决农业问题，工业也将保持高速发展，这一文件的判断

A. 对中美关系的急剧变化估计不足      B. 低估了苏联对华经济援助的作用  
C. 符合中苏两国关系的基本走向      D. 与中国工农业发展状况不符

32、（2011年新课标卷）图5是选自菲利普·费尔南德兹所著《世界：一部历史》中的一幅示意图。该图反映了

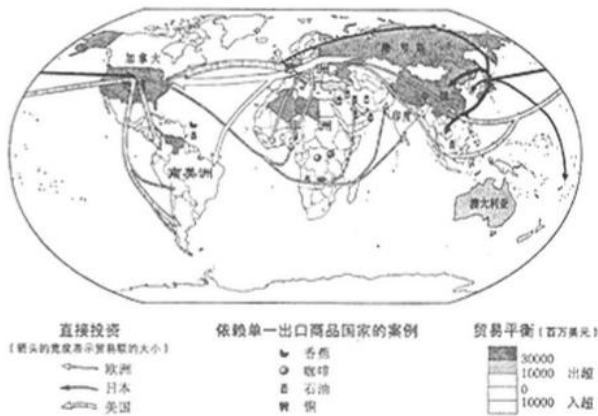


图5

- A. 单一商品出口国在经济全球化中陷入困境
- B. 贸易往来对国家间关系产生了决定性影响
- C. 贸易不平衡加剧了发展中国家的贫困化
- D. 资本流动在经济全球化中具有重要作用

### 第33题

33、（2015年I卷）18世纪中叶，一位英国内阁成员在议会发言中说：“诸位都知道，媾和与开战的权力是由国王掌握的……我们的宪法始终表明，国王在决定和平与战争时有权利让议会参与，也有权利不让议会参与。没有哪位明智的国王真的会冒险不让议会参与。”这表明在当时的英国

A. 光荣革命成果受到侵蚀      B. 立宪政体未能阻止国王专权  
C. 内阁依旧为国王所控制      D. 国王仍旧保留某些名义权力

33、（2015年II卷）表1 英、美、法、德工业生产总和在世界工业生产中所占比例表

年代	1870	1896~1900	1913
比例	78%	74%	72%

由表 1 可以推知，19 世纪 70 年代到 20 世纪初

- A. 欧美发达国家已经开始盛极而衰      B. 世界各地的工业化有所发展  
C. 世界各国工业发展差距明显缩小      D. 世界经济结构发生重大变化

33、（2014 年 II 卷）有人描述 19 世纪初英国的情景时说，妇女和女孩们曾从黎明到深夜整天不断地使用的  
嘤嘤作响的纺车，如今已被弃置屋隅。那些打着拍子砰然作响的手织机也多半闲置无闻。这说明

- A. 生产领域出现革命性变化      B. 工业革命推动妇女解放  
C. 重工业成为国民经济主导      D. 家庭手工业已不复存在

33、（2014 年 I 卷）根据美国 1787 年宪法，众议员名额按照各州人口比例分配，各州人口数“按自由人总  
数加上所有其他人口的五分之三予以确定”。这规定违背了《独立宣言》中提倡的

- A. 主权在民原则      B. 天赋人权原则      C. 各州自治原则      D. 各州平等原则

33、（2013 年 II 卷）华盛顿在 1787 年 3 月致麦迪逊的信中说：“凡是有判断能力的人，都不会否认对现行  
制度进行彻底变革是必需的。我迫切希望这一问题能在全体会议上加以讨论。”这里所说的“彻底变  
革”是指

- A. 革除联邦体制的弊端      B. 建立三权分立的共和体制  
C. 废除君主立宪制      D. 改变松散的邦联体制

33、（2013 年 I 卷）1952 年，苏共领导人马林科夫在十九大的政治报告上指出：“今年谷物的总收获量达  
到 80 亿普特，而最主要的粮食作物小麦总收获量比 1940 年增加了 48%。以前认为是最尖锐、最严重  
的问题——谷物问题，就这样顺利地解决了，彻底而永远地解决了。”这一论断

- A. 与实际情况完全相符      B. 成为加快工业化的依据  
C. 是对农业改革的肯定      D. 是对斯大林模式的维护

33、（2012 年新课标卷）据统计，1992 年全国辞去公职经商者达 12 万人，未辞职而以各种方式投身商海  
者超过 1000 万人，这种现象被称为“下海潮”。这反映了

- A. 市场经济改革为社会共识      B. 多种经济成分开始共同发展  
C. 城市经济体制改革全面展开      D. 计划经济开始转向市场经济

33、（2011 年新课标卷）1962 年，中共中央发布文件规定，农村人民公社一般以生产队为基本核算单位，  
至少 30 年不变。这项政策在当时

- A. 促进了农业经济的恢复      B. 改变了农村所有制成分  
C. 消除了“左”的错误影响      D. 增加了城市的粮食供应

### 第 34 题

34、（2015 年 I 卷）1935 年 8 月，美国国会通过法案，其中规定凡年满 65 岁的退休人员，根据原工资水  
平每月可获得一定数额的养老金。与该规定属于同一法案的是

- A. 制订公平经营章程      B. 建立失业保险制度

- C. 提供农副产品补贴 D. 规定最低工资水平

34、（2015 年 II 卷）1930 年苏联粮食产量为 835.4 亿千克，1931 年降至 694.8 亿千克；1930 年苏联粮食出口 483 亿千克，1931 年增至 518 亿千克。这表明苏联

- A. 人民为国家工业化建设作出贡献 B. 农业投入不足造成粮食供不应求  
C. 粮食减产严重制约工业发展速度 D. 农业集体化影响农民生产积极性

34、（2014 年 II 卷）20 世纪 30 年代，美国每周有成千上万的人去电影院，轻歌曼舞的幻想型影片备受欢迎，当红童星秀兰·邓波儿通常在电影中扮演孤儿去感化富人。这一现象

- A. 表明了新政已使全国重现繁荣的景象 B. 体现了民众身陷危机淡定应对的精神  
C. 反映了民众逃避现实来求慰藉的心态 D. 说明了现代主义艺术得到社会的认可

34、（2014 年 I 卷）1928 年，苏联按照国家计划在乌拉尔地区建设两个钾矿矿井，一个由苏联自主建设，另一个由德国公司负责。这反映出苏联在工业化初期

- A. 缺少基本的技术基础 B. 突破了计划经济指令的制约  
C. 依赖外资建设重工业 D. 采用新经济政策的某些做法

34、（2013 年 II 卷）19 世纪晚期德国的现代化进程中，经济突飞猛进与政治民主发展滞后形成巨大反差。出现这种现象的原因在于

- A. 皇权与贵族结盟掌握政权 B. 国家分裂阻碍政治民主化  
C. 经济发展消解政治改革诉求 D. 对外战争影响国内民主进程

34、（2013 年 I 卷）图 6 中①②③④分别是不同时期的欧洲局部图。符合德国历史发展进程 的是



- ① ② ③ ④

- A. ③②④① B. ④③①② C. ①④③② D. ④①②③

34、（2012 年新课标卷）古罗马法学家盖尤斯记述过一个案例：有人砍伐了邻居家的葡萄树，被告上法庭，原告虽提供了确凿证据，却输掉了官司。原因是原告在法庭辩论中把“葡萄树”说成了“葡萄”，而《十二铜表法》只规定了非砍伐他人“树木”应处以罚金。该案例说明当时在罗马

- A. 不重视私有财产的保护 B. 法律具有形式主义特征  
C. 审判程序缺乏公正性 D. 审判结果取决于对法律的解释

34、（2011 年新课标卷）1985 年，国务院在《关于国有企业工资改革问题的通知》中规定，企业工资总额同经济效益浮动的比率，一般是上缴税利总额增长 1%，工资总额增长 0.3%~0.7%，最多不得超过 1%。这一规定的主要目的是

- A. 保证职工收入逐年提高 B. 拉开职工收入的档次  
C. 鼓励企业提高经济效益 D. 有效控制企业工资总额

### 第 35 题

35、（2015 年 I 卷）世界银行在 1968 年的贷款项目为 62 个，贷款总额为 9.5 亿美元；1981 年贷款项目为 266 个，贷款总额为 124 亿美元。出现这一变化是因为

- A. 新兴独立国家大量增加
- B. 各国关税税率明显降低
- C. 美国西欧经济实力下降
- D. 世界贸易组织大力推动

35、（2015 年 II 卷）如果以“两极格局的确立与解体”为题撰写专著，贯穿全书的主线应该是，美苏两国

- A. 根本利益的趋同
- B. 军事冲突的加剧
- C. 国家实力的消长
- D. 敌对意识的淡化

35、（2014 年 II 卷）图 6 为波兰开放边境线时的情景，它反映的是



图 6

- A. 冷战结束
- B. 华约解体
- C. 北约东扩
- D. 欧盟扩大

35、（2014 年 I 卷）有学者指出，欧元作为具有震撼力的新事物，它的问世成为 21 世纪初欧洲甚至是国际金融领域的重大事件。欧元的巨大作用表现在

- A. 推动欧盟内部统一市场的发展
- B. 消除了欧盟各成员国之间的贸易壁垒
- C. 促进了欧盟对外贸易额的增加
- D. 巩固了欧洲在世界经济中的领导地位

35、（2013 年 II 卷）1931 年，斯大林说：“我们比先进国家落后了 50—100 年，我们应当在 10 年内跑完这段距离。”这一思想

- A. 完全符合当时的苏联国情
- B. 推动了苏联经济模式的形成
- C. 与战时共产主义政策一致
- D. 延续了新经济政策的精神

35、（2013 年 I 卷）有俄罗斯学者认为，中国 20 世纪 80 年代的改革属于新版的苏俄新经济政策。这一认识的依据是两者都

- A. 处于相似的国内外经济环境
- B. 面临着处理计划与市场的关系问题
- C. 巩固了农村的集体所有制经济
- D. 促进了社会主义工业化

35、（2012 年新课标卷）图 5 为世界贸易中国家和地区所占份额示意图。它反映出

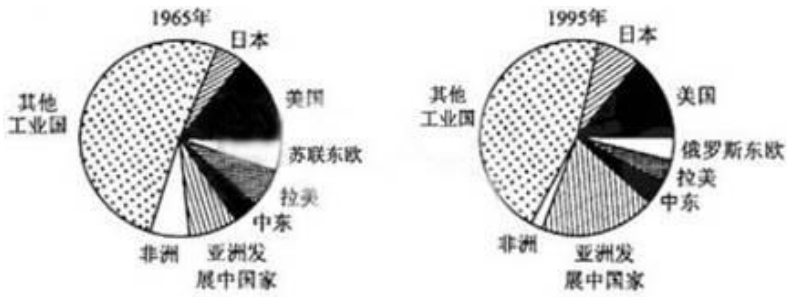


图 5

- A. 关贸总协定维持了世界贸易秩序的基本稳定 B. 率先进行新技术革命的国家贸易量增加  
C. 20 世纪世界经济重心的转移趋势 D. 多极化趋势取代了冷战时期的世界格局
- 35、（2011 年新课标卷）哥白尼、牛顿和爱因斯坦被称为近代以来最伟大的科学家，其理论的共同之处是
- A. 得到了科学实验的验证 B. 改变了人类对自然世界的认识  
C. 推动了技术的重大突破 D. 科学地概括出物质运动的定律